

विश्वको भूगोल लोकसेवामा सोधिएका प्रश्नहरू

1. ४९ प्यारालल के सँग सम्बन्धित छ ? [अधिकृत क्याडेट, २०८०/२/११]

a. क्यानडा र संयुक्त राज्य अमेरिकाको सीमा रेखा

b. उत्तर कोरिया र दक्षिण कोरियाको सीमा रेखा

c. भारत र पाकिस्तानको सीमा रेखा

d. जर्मनी र फ्रान्सको सीमा रेखा

- क्यानडा र संयुक्त राज्य अमेरिकाको सीमा रेखा

✓ उत्तरी गोलार्धमा पर्ने ४९ डिग्री उत्तर अक्षांश रेखालाई 49th parallel भनिने

✓ एङ्लो अमेरिकन कन्भेन्सन १८१८ र ओरेगोन ट्रिटी १८४६ पश्चात सीमाङ्कन गरिएको

2. चीन र भारत बीच निर्धारण गरिएको सीमारेखालाई के भनी चिनिन्छ ? [मा.वि. शिक्षक २०७९]

a. रेडक्लिफ लाइन

b. मेकमोहन लाइन

c. सिगफ्रेड लाइन

d. मोजिनट लाइन

- मेकमोहन लाइन

3. तलका मध्ये कुनचाहिँ बन्दरगाहा होइन ? [खरिदार २०७०]

a. न्यूयॉर्क

b. लापाज

c. मुम्बई

d. अलेक्जान्ड्रिया

- लापाज

4. "One Belt One Road" कुन देशले अघि सारेको परियोजना हो? [अधिकृत क्याडेट २०७८/७/२९]

a. भारत

b. क्यानडा

c. चीन

d. रूस

- चीन

5. एशियाली राजमार्गको लम्बाइ कति छ? [ना.सु. समावेशी, २०६९]

- a. 1,40,000 कि.मि. b. 1,45,000 कि.मि. c. 1,50,000 कि.मि. d. 1,55,000 कि.मि.

- 1,40,000 कि.मि.

6. तलकामध्ये कुनचाहिँ वायुमण्डलीय तहलाई परिवर्तन मण्डल (Changeable layer) भनिन्छ ? [खरिदार विज्ञान, २०७६/३/१७]

- a. निम्नमण्डल (Troposphere) b. मध्यमण्डल (Mesosphere) c. समतापमण्डल (Stratosphere) d. तापीयमण्डल (Thermosphere)

- निम्नमण्डल (Troposphere)

7. सामुन्द्रिक भुमरीबारे निम्न कथनहरूमा कुन कुन ठीक हुन्? सामुद्रिक आँधी प्रायःघुम्छ । [शाखा अधिकृत, २०७८।४।२३]

- 1) उत्तरी गोलार्द्धमा घडीको सुई घुम्ने विपरित दिशामा
- 2) दक्षिणी गोलार्द्धमा घडीको सुई घुम्ने दिशामा
- 3) उत्तरी गोलार्द्धमा घडीको सुई घुम्ने दिशामा
- 4) दक्षिणी गोलार्द्धमा घडीको सुई घुम्ने विपरित दिशामा

- a. 1 and 2 b. 1 and 4 c. 2 and 3 d. 3 and 4

- 1 and 2

8. कुन जलवायविक प्रदेशमा न्यूनतम ताप भिन्नता भेटिन्छ? [शाखा अधिकृत, पाठ्यक्रमबाट]

- a. भूमध्य प्रदेश b. मनसून प्रदेश c. उष्ण प्रदेश d. भूमध्य सागरीय

- भूमध्य प्रदेश

9. कुन चाहिँ हावापानीलाई सबैभन्दा चिसो हावापानी मानिन्छ ? [रासस, चौथो, २०७८/११/२८]

- a. उष्ण b. समशितोष्ण c. ट्रपिकल d. टुण्ड्रा

- टुण्ड्रा

10. प्रकृतिमा सबैभन्दा बढी मात्रामा पाइने ग्याँस कुन हो? [प्रेस का.ने. पाँचौं, २०८०।३।२७]

- a. हाइड्रोजन b. नाइट्रोजन c. अक्सिजन d. कार्बन

- नाइट्रोजन

11. समूह I र समूह II बीच जोडा मिलाउनुहोस् र कोडबाट सही उत्तर छान्नुहोस् । [खरिदार २०७२]

समूह I

- a) विषमताको महादेश
b) नाइल नदी
c) हिन्दकुश पर्वतमाला
d) तक्ला माकन मरुभूमि

समूह II

- 1) एटलान्टिक महासागर
2) पाक-अफगान क्षेत्र
3) चीन
4) एशिया

a. a2, b4, c1, d3

b. a3, b4, c1, d2

c. a2, b3, c4, d1

d. a4, b1, c2, d3

- a4, b1, c2, d3

12. डेथ भ्याली (Death Valley) कुन देशमा पर्दछ ? [सशस्त्र प्र.स.नि. २०७८/८/१६]

- a. दक्षिण अफ्रिका b. संयुक्त राज्य अमेरिका c. अष्ट्रेलिया d. इटली

- संयुक्त राज्य अमेरिका

13. तल दिइएका मध्ये कुन बेठिक छ ? [खा. व्य. तथा व्या. क.लि. पाँचौं, २०८०।२।२६]

a. सहारा मरुभूमि अफ्रिकामा पर्दछ

b. थार मरुभूमि पाकिस्तानमा पर्दछ

c. क्षेत्रफलको हिसाबले

सबैभन्दा ठूलो महासागर प्रशान्त महासागर हो

d. एण्डिज पर्वत श्रृंखला दक्षिण अमेरिकामा पर्दछ

- थार मरुभूमि पाकिस्तानमा पर्दछ

14. कुन देशमा कारनुवा मैन (carnauba wax) उत्पादन हुन्छ ? [नायब सुब्बा, २०७४]

a. Argentina

b. Egypt

c. Brazil

d. Russia

- Brazil

15. निम्नलिखित देशहरू बारे विचार गर्नुहोस् । (शाखा अधिकृत, २०७४)

1) फ्रान्स (France)

2) नर्वे (Norway)

3) रूस (Russia)

4) संयुक्त अधिराज्य (United Kingdom)

5) संयुक्त राज्य अमेरिका (United States of America)

सुमेरु परिषद् (Arctic Council) को सदस्यहरू माथि उल्लिखित देशमध्ये कुन-कुन हुन् ?

a. 1, 2, 3, 4 र 5 सबै

b. 1,3,4 मात्र

c. 1,4,5 मात्र

d. 2, 3, 5 मात्र

- 2, 3, 5 मात्र

16. निम्नलिखित जोडाहरूबारे विचार गर्नुहोस् ? [शाखा अधिकृत, २०७५]

ठाउँ = महादेश

1) Cape of Horn = अफ्रिका (Africa)

2) Cape of Good Hope = दक्षिण अमेरिका (South America)

Study Notes

Past Questions

3) Roof of the World= एशिया (Asia)

माथि दिइएका जोडाहरूमध्ये कुन-कुन जोडा सही छ / छन् ?

a. 1, 2 & 3

b. 2 & 3

c. 1 & 3

d. 3 Only

- 3 Only

✓ Cape Horn: Chile (South America)

✓ Cape of Good Hope: South Africa (Africa)

✓ Roof of the world: Tibet (Asia)

17. "Horn of Africa" मा देहायका मध्ये कुन देश पर्दैन ? [शाखा अधिकृत, २०७६/१०/२५]

a. Somalia

b. Djibouti

c. Kenya

d. Eritrea

- Kenya

18. समूह र ॥ बीच जोडा मिलाई सही उत्तर छान्नुहोस् । [लुम्बिनी चौथो, २०७१/१०/१४]

a) एन्जेल

b) टुगेला

c) ताकाकावा

d) गाभान

1) दक्षिण अफ्रिका

2) कोलम्बिया

3) भेनेजुएला

4) फ्रान्स

a. a-3, b-4, c-2, d-1

b. a-2, b-3, c-4, d-1

c. a-3, b-1, c-2, d-4

d. a-2, b-4, c-1, d-3

- a-3, b-1, c-2, d-4



Study Notes

Current Affairs

Past Questions

MCQs

Mock Tests



19. निम्नलिखित कथनहरू बारेमा विचार गर्नुहोस्। (ना.सु. खुला, २०६९)

- 1) टुगेला नामक झरना नर्वेमा पर्छ।
- 2) सुदरल्याण्ड नामक भरना न्यूजिल्याण्डमा पर्दछ।
- 3) एन्जेल नामक झरना भेनेजुएलामा पर्दछ।

माथि उल्लिखित कथनहरूमा कुन ठीक हो / हुन् ?

- a. 1 र 2 मात्र ठीक b. 1, 2, 3 सबै ठीक c. 3 मात्र ठीक d. 1, 2, 3 सबै बेठिक

- 1, 2, 3 सबै ठीक

20. भिक्टोरिया झरना कुन कुन देशको सीमामा पर्दछ ? [शाखा अधिकृत, २०७५]

- a. जिम्बाब्वे र जाम्बिया b. जाम्बिया र वोत्सावना c. जिम्बाब्वे र मोजाम्बिक d. जिम्बाब्वे र मोजाम्बिक

माथिको कनै पनि होइन

- जिम्बाब्वे र जाम्बिया

21. तालै तालको देश भनेर कुन देशलाई भनिन्छ ? [ने.वा. नि. पाँचौं (प्रा), २०८०/२/११]

- a. नेपाल b. फिनल्याण्ड c. नेदरल्याण्ड d. जापान

- फिनल्याण्ड

22. तलका मध्ये कुन भनाइ गलत छ ? [सशस्त्र प्रहरी निरीक्षक, २०७८/१/८]

- a. सहारा मरुभूमि संसारकै ठूलो मरुभूमि हो b. १८० डिग्री देशान्तर रेखालाई अन्तर्राष्ट्रिय तिथिरेखा भनिन्छ
- c. उत्तरी ध्रुवमा जाडो हुँदा दक्षिणी ध्रुवमा गर्मी हुन्छ d. भूमध्य रेखा सबैभन्दा छोटो अक्षांश रेखा हो

- भूमध्य रेखा सबैभन्दा छोटो अक्षांश रेखा हो

23. महान ताल (Great Lakes) भन्नाले कुन कुन तालहरूलाई जनाउँदछ ? [CTEVT शाखा अधिकृत, २०७९।६।३]

- a. वैकाल, भिक्टोरिया, क्यास्पियन, ओन्टेरियो र सुपेरियर b. मिचिगन, भिक्टोरिया, क्यास्पियन, स्वेज र

सुपेरियर
ओन्टेरियो

c. माराकाइबा, स्पेज, वैकाल, ह्युरी र मिचिगन

d. सुपरियर, मिचिगन, ह्युरी, इरी र

- सुपरियर, मिचिगन, ह्युरी, इरी र ओन्टेरियो

24. समूह I (ताल) र समूह II (स्थान) बीच जोडा मिलाउनुहोस् र कोडबाट सही उत्तर छान्नुहोस् । [शाखा अधिकृत, २०७५]

समूह (Group) I

- बैकाल (Baikal)
- भोस्टोक (Vostok)
- निपिगोन (Nipigon)
- ताना (Tana)

समूह (Group) II

- क्यानडा (Canada)
- अन्टार्कटिका (Antarctica)
- इथियोपिया (Ethiopia)
- रसिया (Russia)

a. a-2, b-4, c-1, d-3

b. a-3, b-4, c-1, d-2

c. a-2, b-1, c-3, d-4

d. a-4, b-2, c-3, d-1

- a-4, b-2, c-3, d-1

25. मानव निर्मित विश्वको ठूलो ताल कुन देशमा पर्दछ ? [खरिदार २०६८, समावेशी]

a. युगान्डा

b. जिम्बाब्वे

c. इजिप्ट

d. रसिया

- जिम्बाब्वे

26. विश्वको सबभन्दा ठूलो नूनिलो पानीको ताल कुन हो ? [खरिदार २०७२]

a. आइरा

b. बैकाल

c. मृतसागर

d. कृष्णसागर

- मृतसागर

27. बैकाल ताल कुन देशमा पर्छ? [नेपाल टेलिकम, जुनियर टेक्निसियन, २०८०|४|१०]

- a. फ्रान्स b. रसिया c. पोर्चुगल d. भारत

- रसिया

28. Glaciology के सँग सम्बन्धित छ? [रा.बी.क. लि. चौथो, २०८०/३/२१]

- a. हिउँसम्बन्धी अध्ययन गर्ने विज्ञान b. माटोसम्बन्धी अध्ययन गर्ने विज्ञान
अध्ययन गर्ने विज्ञान c. सिसासम्बन्धी
d. चट्टानसम्बन्धी अध्ययन गर्ने विज्ञान

- हिउँसम्बन्धी अध्ययन गर्ने विज्ञान

29. भट्नाजोकुल हिमनदी (Vatnajokull Blacier) कुन महादेशमा पर्दछ ? [खरिदार २०८०|६|६]

- a. एशिया b. उत्तर अमेरिका c. युरोप d. अष्ट्रेलिया

- युरोप

30. विश्वको सबैभन्दा लामो हिमनदी कुन हो ? [खरिदार २०७६]

- a. किलिमान्ज b. ल्याम्बार्ट c. हवार्ड d. सियाचे

- ल्याम्बार्ट

31. युफ्रेट्स र टिग्रीस नदीको दोभानमा रहेको शहर कुन हो? [शाखा अधिकृत, २०७४]

- a. सिड्नी b. लण्डन c. दोहा d. बगदाद

- बगदाद

32. उत्तर अमेरिकाको रकी पर्वतबाट उत्पत्ति भएका प्रमुख नदी कुन कुन हुन् ? [नायब सुब्बा, २०७५]

1) मिसिसिपि (Mississippi)

- 2) मिसौरी (Missouri)
- 3) कोलोराडो (Colorado)
- 4) रियो ग्राण्ड (Rio Grande)
- 5) कोलम्बिया (Columbia)

a. 1, 2 र 3 मात्र

b. 2, 3 र 5 मात्र

c. 1, 2, 3 र 4 मात्र

d. माथिका सबै

- 2, 3 र 5 मात्र

33. समूह I र II बिच जोडा मिलाई कोडबाट सही उत्तर छान्नुहोस् । [लुम्बिनी म.वि.नि. २०८०/१/३०]

समूह I

- a) नाइल
- b) गंगा
- c) मिसिसिपी
- d) भोल्गा

समूह II

- 1) मेक्सिको खाडी
- 2) भूमध्यसागर
- 3) क्यास्पियन सागर
- 4) बंगालको खाडी

a. a-2, b-4, c-1, d-3

b. a-3, b-4, c-1, d-2

c. a-2, b-1, c-3, d-4

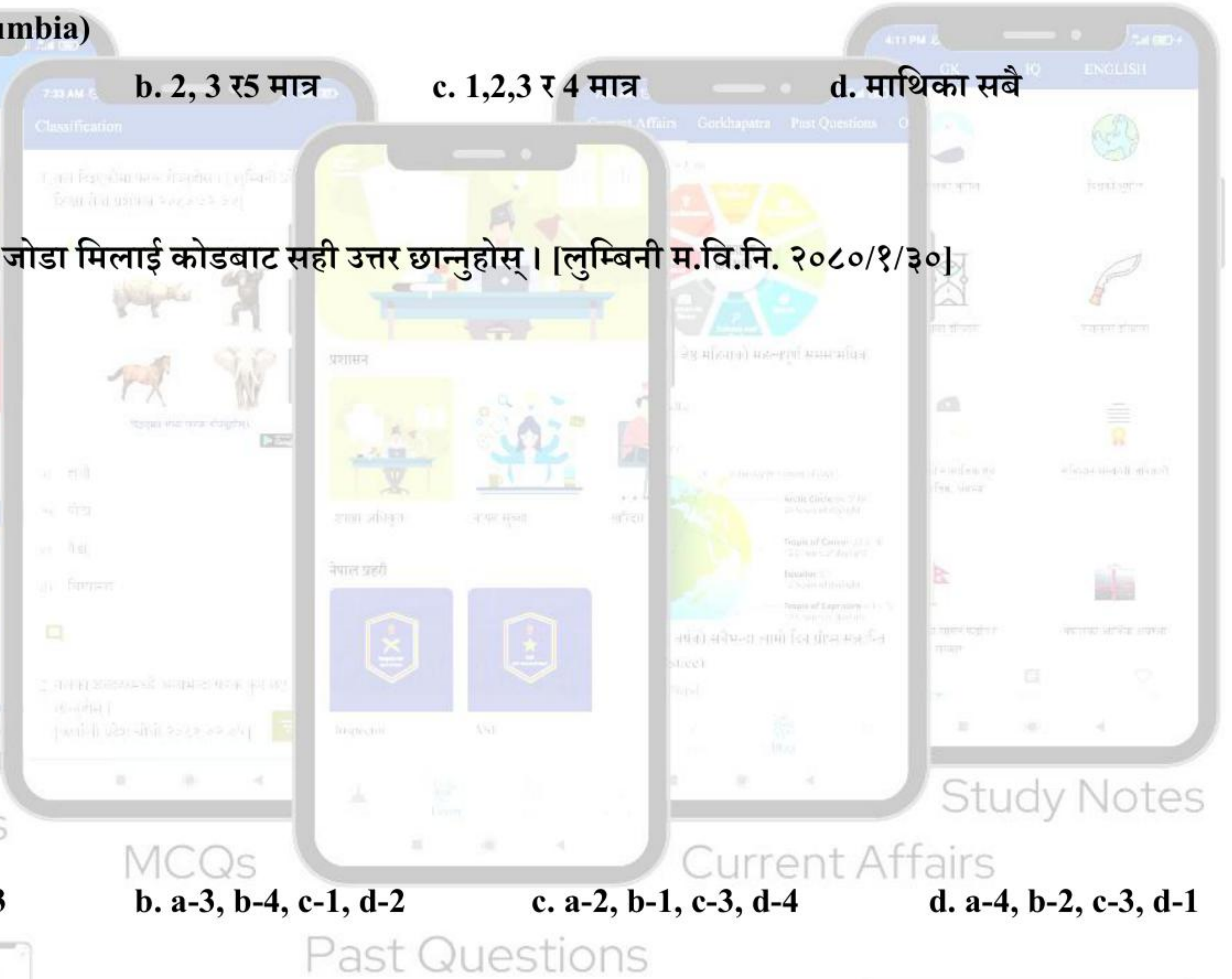
d. a-4, b-2, c-3, d-1

- a-2, b-4, c-1, d-3

34. तल दिइएका मध्ये कुन नदी बंगालको खाडीमा मिसिदै ? [नायब सुब्बा, २०८०।५।२]

- a. हुगली
- b. सिन्धु
- c. पद्मा
- d. ब्रह्मपुत्र

- सिन्धु



35. अमुर नदी देशको सिमाना हो । [खरिदार २०७५]

a. भारत र म्यानमार

b. अफगानिस्तान र पाकिस्तान

c. बंगलादेश र म्यानमार

d. रसिया र चीन

- रसिया र चीन

- विश्वको १० औं लामो नदी पनि रहेको: ४,४४४ कि.मी

36. समूह I र समूह II मा जोडा मिलान गरी कोडबाट सही उत्तर छान्नुहोस् । [शाखा अधिकृत, २०७२]

समूह (Group) I

a. युराल (Ural)

b. नाईल (Nile)

c. मर्रे (Murray)

d. भोल्गा (Volga)

समूह (Group) II

1. अष्ट्रेलिया

2. युरोप

3. अफ्रिका

4. एशिया

a. a4, b3, C2, d1

b. a4, b3, C1, d2

c. a1, b4, C3, d2

d. a2, b3, C1, d4

- a4, b3, C1, d2

37. विश्वको सबैभन्दा व्यस्त व्यापारिक नदी कुन हो ? [नेपाल टेलिकम, चौथो, टेक्निसियन, २०७९।३।१४]

a. सिन नदी

b. राइन नदी

c. ओव नदी

d. टाइवर नदी

- राइन नदी

38. कुन देशलाई "नाइल नदीको बरदान" भनेर चिनिन्छ ? [नायब सुब्बा, २०७१]

- a. लिबिया b. जोर्डन c. इजिप्ट d. सिरिया

- इजिप्ट

39. 'नाइल नदी' कति वटा देश भएर बग्दछ ? [सशस्त्र प्र.स.नि. २०८०/१/१८]

- a. ६ b. ८ c. ९ d. ११

- ११

40. विश्वको सबैभन्दा लामो नाइल नदी कहाँ गएर अन्त्य हुन्छ ? [सशस्त्र प्रहरी निरीक्षक, २०७८/१/८]

- a. प्रशान्त महासागर b. आन्द्र महासागर c. हिन्द महासागर d. भूमध्य सागर

- भूमध्य सागर

41. देहायका भनाइ विचार गर्नुहोस् । [शाखा अधिकृत, २०७२]

1. सिसलीद्वीप समूह भूमध्यसागर भित्र अवस्थित छ ।

2. पाक जलडमरू भारतको तमिलनाडु र श्रीलंकाको मन्नारका बीचमा पर्दछ । माथिका कुन भनाइ ठीक छ / छन् ?

- a. 1 मात्र ठीक b. 1 ठीक, 2 बेठीक c. 1 बेठीक, 2 ठीक d. 1 र 4 दुबै ठीक

- 1 ठीक, 2 बेठीक

42. तलका मध्ये कुन चाहिँ समुन्द्रमा कुनै प्रकारको जीवजन्तु पाइदैन ? (रा. बी.क.लि. चौथो, २०८०।३।२१)

- a. Black Sea b. Dead Sea c. Oak Sea d. Caspian Sea

- Dead Sea

43. कुन समुन्द्रको सीमाले तीनवटा महादेशलाई छुन्छ ? [नायब सुब्बा, २०७५]

- a. भूमध्य सागर (Mediterranean Sea) b. लाल सागर (Red Sea) c. क्यारेबियन सागर (Caribbean Sea) d. क्यास्पियन सागर (Caspian Sea)

- भूमध्य सागर (Mediterranean Sea)

44. कुन समुन्द्रको सीमाले तीनवटा महादेशलाई छुन्छ? [नायब सुब्बा, २०७५]

a. भूमध्य सागर (Mediterranean Sea)

b. लाल सागर (Red Sea)

c. क्यारेवियन सागर

(Caribbean Sea)

d. क्यास्पियन सागर (Caspian Sea)

- भूमध्य सागर (Mediterranean Sea)

45. विश्वका प्रमुख सागरहरू मध्ये ठूलोदेखि सानोको क्रम कुन ठीक छ? [शाखा अधिकृत, २०७३]

a. भूमध्यसागर - क्यारेवियन सागर-पूर्वी चीन सागर-दक्षिण चीन सागर

b. दक्षिण चीन सागर - क्यारेवियन

सागर, पूर्वी चीन सागर भूमध्य सागर

c. दक्षिण चीन सागर- क्यारेवियन सागर भूमध्यसागर-पूर्वी चीन सागर

d. भूमध्यसागर-दक्षिण चीन सागर-पूर्वी चीन सागर- क्यारेवियन सागर

- दक्षिण चीन सागर- क्यारेवियन सागर भूमध्यसागर-पूर्वी चीन सागर

46. विश्वकै सबैभन्दा ठूलो पानी जहाज टाइटानिक "आन्ध्र महासागर" मा कहिले डुबेको थियो ? [खरिदार २०७१]

a. १९१२ अप्रिल १४

b. १९१२ अप्रिल १८

c. १९१४ अप्रिल १२

d. १९१४ अप्रिल १८

- १९१२ अप्रिल १४

47. समूह I र समूह II बीच जोडा मिलाउनुहोस् र कोडबाट सही उत्तर छान्नुहोस् । [खरिदार २०७२]

समूह I

1) एटलान्टिक महासागर

2) हिन्द महासागर

3) प्रशान्त महासागर

4) आर्कटिक महासागर

समूह II

a) जाभा ट्रेन्च

Study Notes

MCQs

Current Affairs

Past Questions

b) मारियाना ट्रेन्च

c) वेन्टले सवग्लासियर ट्रेन्च

d) पुरिको ट्रेन्च

a. a2, b4, c1, d3

b. a3, b4, c1, d2

c. a2, b3, c4, d1

d. a4, b2, c3, d1

- a2, b3, c4, d1

48. आन्ध्र महासागरको सबैभन्दा गहिरो भाग कुन हो ? [नेपाल टेलिकम, जुनियर टेक्निसियन, २०८०/४/१०]

a. जाभा ट्रेन्च

b. मोली द्विप

c. मारियाना ट्रेन्च

d. प्युटरको द्विप

- प्युटरको द्विप

49. उत्तरी ध्रुवदेखि दक्षिणी ध्रुवसम्म फैलिएको महासागर कुन हो ? [खरिदार २०६८, खुला]

a. हिन्द महासागर

b. आन्ध्र महासागर

c. प्रशान्त महासागर

d. सुमेरु महासागर

- आन्ध्र महासागर

50. क्षेत्रफलको आधारमा सानोबाट ठूलो महासागरहरूको क्रम कुन सही हो ? [खरिदार २०७६]

a. प्रशान्त-आन्ध्र - हिन्द- कुमेरु - सुमेरु (Pacific-Atlantic -Indian- Antarctic-Arctic)

b. सुमेरु -

कुमेरु - आन्ध्र - हिन्द- प्रशान्त (Arctic -Antarctic- Atlantic-Indian-Pacific)

c. कुमेरु - सुमेरु -

हिन्द- आन्ध्र प्रशान्त (Antarctic- Arctic -Indian- Atlantic-Pacific)

d. सुमेरु - कुमेरु - हिन्द- आन्ध्र -

प्रशान्त (Arctic- Antarctic -Indian -Atlantic-Pacific)

- सुमेरु - कुमेरु - हिन्द- आन्ध्र - प्रशान्त (Arctic- Antarctic -Indian -Atlantic-Pacific)

51. विश्वको दोस्रो ठूलो महासागर कुन हो ? [खरिदार २०७९/५/२५]

a. प्रशान्त महासागर

b. हिन्द महासागर

c. आन्ध्र महासागर

d. सुमेरु महासागर

- आन्ध्र महासागर

52. महासागरको पिधलाई भनिन्छ ? [शाखा अधिकृत, २०७८।४।२३]

a. महासागरीय वायु (Ocean wind)

b. महासागरीय तल (Ocean floor)

c. महासागरीय तट

(Ocean coast)

d. महासागरीय धार (Ocean current)

- महासागरीय तल (Ocean floor)

53. विश्वको सबैभन्दा ठूलो भूपरिवेष्टित राष्ट्र कुन हो? [रा.वा.बै. चौथो (नगद), २०८०/९/२८]

a. मंगोलिया

b. चाड

c. नाइजर

d. काजकिस्तान

- काजकिस्तान

54. दिइएका मध्ये कुन भूपरिवेष्टित राष्ट्र होइन ? [सुदुरपश्चिम पाँचौं, २०७९।११।२७]

a. अर्मेनिया

b. मंगोलिया

c. अल्जेरिया

d. जाम्बिया

- अल्जेरिया

55. सेतो हात्तीको देश भनेर कुन देशलाई चिनिन्छ ? [रा.वा.बै. चौथो (नगद), २०७९।२।१५]

a. थाइल्याण्ड

b. सिंगापुर

c. इण्डोनेशिया

d. मलेशिया

- थाइल्याण्ड

56. शान्त प्रातःकाल (Land of Morning Calm) को देश भनेर कसलाई जनाउँछ ? [नायब सुब्बा, २०७३]

a. दक्षिण कोरिया

b. थाइलैण्ड

c. क्यानडा

d. लाओस

- दक्षिण कोरिया

57. 'सूर्योदयको देश' भन्नाले कुन राष्ट्रलाई जनाउँछ। [खरिदार्, २०६९]

a. बेलायत

b. नर्वे

c. जापान

d. फिनल्याण्ड

- जापान

58. समूह I र II बीच जोडा मिलाई कोडबाट सही उत्तर छान्नुहोस् । [शाखा अधिकृत, २०७८।४।२३] Match Group I and II and choose the correct answer from the code.

समूह (Group) I

- Italy
- Denmark
- Spain
- Belgium

समूह (Group) II

- Peseta
- Franc
- Lira
- Krone

a. a-3, b-4, c-1, d-2

b. a-2, b-4, c-3, d-1

c. a-2, b-1, c-4, d-3

d. a-1, b-3, c-2, d-4

- a-3, b-4, c-1, d-2

59. इथियोपियाको मुद्राको नाम के हो? [अधिकृत क्याडेट, २०७९।३।२३]

a. Ethiopian Naira

b. Ethiopian Bir

c. Ethiopian Dinar

d. Ethiopian Nakfa

- Ethiopian Bir

60. बंगलादेश, भियतनाम, फिलिपिन्स, म्यानमार र लाओस देशको पूर्वबाट पश्चिमको ठीक क्रम कुन हो ? [नायब सुब्बा, २०८०।५।२]

a. म्यानमार, फिलिपिन्स, भियतनाम, लाओस र बंगलादेश

b. फिलिपिन्स, भियतनाम, लाओस, म्यानमार र

बंगलादेश

c. लाओस, फिलिपिन्स, भियतनाम, म्यानमार र बंगलादेश

d. भियतनाम,

फिलिपिन्स, लाओस, म्यानमार र बंगलादेश

- फिलिपिन्स, भियतनाम, लाओस, म्यानमार र बंगलादेश

61. निरन्तरता कायम भइरहेको संसारका सहरहरूमा क्रमशः सबभन्दा पुरानोबाट नयाँ क्रममा रहेको कुन हो?

[बागमती_पाँचौं, २०७९।११।२७]

a. दमास्कस, एथेन्स, बनारस

b. बनारस, दमास्कस, एथेन्स

c. दमास्कस, बनारस, एथेन्स

d. एथेन्स, बनारस, दमास्कस

- दमास्कस, एथेन्स, बनारस

62. विश्वको कुन देशको राजधानी समुन्द्रको सतहदेखिसबैभन्दा उच्च स्थानमा रहेको छ ? [अधिकृत क्याडेट, २०८०/२/११]

a. उलानवाटर, मंगोलिया

b. मस्को, रसीया

c. टिब्लिसी, जर्जिया

d. लापाज,

बोलीभिया

- लापाज, बोलीभिया

63. तलका भनाइ अध्ययन गरी सही उत्तर छान्नुहोस् ।

1) निकोसिया सिरियाको राजधानी हो ।

2) लेसोथो एउटा भूपरिवेष्टित राष्ट्र हो । [खरिदार २०७५]

a. 1 र 2 दुबै ठीक

b. 1 र 2 दुबै बेठीक

c. 1 ठीक, 2 बेठीक

d. 2 ठीक, 1 बेठीक

- 2 ठीक, 1 बेठीक

64. समूह I र समूह II मा जोडा मिलाउनुहोस् र कोडबाट सही उत्तर छान्नुहोस् । [खरिदार २०७४]

a) बर्मा

b) मेसोपोटामिया

c) पर्सिया

d) गोल्ड कोस्ट

1) घाना

2) इरान

3) म्यानमार

4) इराक

a. a3, b4, c1, d2

b. a3, b4, c2, d1

c. a2, b1, c3, d4

d. a4 b2, c3, d1

- a3, b4, c2, d1

65. तल दिइएका देश र तिनका राजधानीको सही जोडा मिलाउनुहोस् । [बागमती पाँचौं, २०७१।१।२७]

देश

क. बहराइन

ख. म्यानमार

ग. युक्रेन

घ. टर्की

राजधानी

१. नेपित

२. किभ

३. अङ्कारा

४. मनामा

a. क ४ ख १, ग-२, घ-३

b. क-२, ख ४, ग-३, घ-१

c. क-३, ख २, ग-१, घ-४

d. क-

१, ख ३, ग-४, घ-२

- क ४ ख १, ग-२, घ-३

66. समूह I र II बीच जोडा मिलाउनुहोस् र कोडबाट सही उत्तर छनौट गर्नुहोस् । [शाखा अधिकृत, २०७१]

समूह - I

a. अंकारा (Ankara)

Past Questions

b. टोरोण्टो (Toronto)

c. रियो दि जेनेरियो (Rio de Jenerio)

d. मोम्बासा (Mombasa)

समूह - II

1. क्यानडा

2. टर्की

3. ब्राजिल

4. केन्या

a. 2a, 1b, 3c, 4d

b. 1a, 2b, 3c, 4d

c. 4a, 3b, 1c, 2d

d. 4a, 3b, 2c, 1d

- 2a, 1b, 3c, 4d

67. "लुसाका" कुन देशको राजधानी शहर हो? [शाखा अधिकृत, २०७८/४/२३]

a. जाम्बिया

b. पेरू

c. जिम्बाब्वे

d. नामिबिया

- जाम्बिया

68. क्षेत्रफलका हिसाबले विश्वकै सबैभन्दा ठूलो राष्ट्र कुन हो ? [सशस्त्र प्र.स.नि. २०७८/८/१६]

a. चीन

b. अमेरिका

c. क्यानडा

d. रूस

- रूस

69. सुरिनाम कुन महादेशमा पर्ने देश हो ? [सशस्त्र प्रहरी निरीक्षक, २०८०/१/४]

a. युरोप

b. एशिया

c. उत्तर अमेरिका

d. दक्षिण अमेरिका

- दक्षिण अमेरिका

70. वर्ल्ड गिनिजबुक अफ रेकर्ड अनुसार नदीबाट बनेको सबैभन्दा ठूलो टापुको नाम के हो ? [शाखा अधिकृत, २०७९।१२।४]

- a. Majuli Island b. Srirangam Island c. Bhavani Island d. Agatti Island

- Majuli Island

71. कुन महासागरमा सन् 2014 मा ज्वालामुखी विष्फोट हुँदा होंगा टोंगा नामको नयाँ द्वीप बनेको छ? [शाखा अधिकृत, २०७३]

- a. प्रशान्त महासागर b. आन्ध्र महासागर c. हिन्द महासागर d. माथिको कुनै होइन

- प्रशान्त महासागर

72. भिक्टोरिया आइल्याण्ड कुन महादेशमा पर्छ ? [सशस्त्र प्र.स.नि. २०७८।८।१६]

- a. यूरोप b. अफ्रिका c. दक्षिण अमेरिका d. उत्तर अमेरिका

- अफ्रिका

73. "Campos" र "Lianos" उष्ण प्रदेशिक सवाना घाँसे मैदानहरू सामान्यतयामा पाइन्छ ? [शाखा अधिकृत, २०७६ /१०/२५]

- a. अष्ट्रेलिया b. मध्य अफ्रिका c. दक्षिण अमेरिका d. पूर्वी एशिया

- दक्षिण अमेरिका

74. पामिर माउण्टेन प्रायः मा पर्दछ। [नेपाल राष्ट्र बैंक, सहायक द्वितीय, २०७५।११।४]

- a. चीन b. ताजिकिस्तान c. किर्गिस्तान d. अफगानिस्तान

- ताजिकिस्तान

75. Mount Fuji' कुन देशको सबैभन्दा अग्लो हिमाल हो ? [नेपाल टेलिकम, चौथो, टेक्निसियन, २०८०।४।१६]

- a. चीन b. दक्षिण कोरिया c. ब्राजिल d. जापान

- जापान

76. 'एण्डिज' पर्वतमाला कुन महादेशमा पर्दछ ? [सशस्त्र प्र.स.नि, २०८०/१/१८]

- a. उत्तर अमेरिका b. दक्षिण अमेरिका c. अफ्रिका d. युरोप

- दक्षिण अमेरिका

77. निम्नमध्ये कुन हिमालको उचाइ 8 हजार मिटरभन्दा कम छ ? [शाखा अधिकृत, २०७१]

- a. मनास्लु b. माउण्ट के 2 c. मकालु d. माउण्ट एलब्रुज

- माउण्ट एलब्रुज

78. माउण्ट के टु हिमाल कुन श्रृंखलामा पर्दछ ? [खा. व्य. तथा व्या. क. लि. पाँचौं, २०८०/२/२६]

- a. शिवालिक b. हिमाञ्चल c. काराकोरम d. हिमाढी

- काराकोरम

79. विश्वको सर्वोच्च शिखर सगरमाथा नेपालमा पर्छ भने दोस्रो उच्च शिखर कुन देशमा पर्छ ? [अधिकृत क्याडेट, २०८०/२/११]

- a. अफगानिस्तान b. पाकिस्तान c. भारत d. नेपाल

- पाकिस्तान

80. निम्न अनुसारका पर्वत शिखरहरू पूर्वबाट पश्चिमको क्रममा मिलाउनुहोस् । [मधेश_पाँचौं, २०७१।६।१]

1) Mt. Everest 2) Mt. Fuji 3) Mount K2 4) Mt. Api

- a. 2,1,4,3 b. 1,2,3,4 c. 2,3,4,1 d. 4,3,2,1

- 2,1,4,3

81. पृथ्वी भित्र रहेका पदार्थहरू तापक्रमका कारण पग्लिएर र पछाडि चिसिएर बनेको चट्टानलाई के भनिन्छ?

[गण्डकी_चौथो, २०७८।१०।८]

- a. आग्नेय चट्टान b. पत्रेदार चट्टान c. ग्रेनाइट d. मार्बल

- आग्नेय चट्टान

82. "Sonoran" के हो ? [शाखा अधिकृत, २०७६।१०।२५]

- a. उत्तर अमेरिकाको मरुभूमि क्षेत्र बाली b. फ्रान्सको मौसमी हावा c. भूमध्यसागरीय क्षेत्रको नगदे
d. दक्षिण अफ्रिकाको एक जाति

- उत्तर अमेरिकाको मरुभूमि क्षेत्र

83. तलका समूह I र समूह II बीच उपयुक्त जोडा मिलाई कोडबाट सही उत्तर छान्नुहोस् । [शाखा अधिकृत, २०७०]

समूह I

- a. गोवी मरुभूमि
b. मोजामी मरुभूमि
c. थार मरुभूमि
d. काराकुम

समूह II

1. संयुक्त राज्य अमेरिका
2. भारत र पाकिस्तान
3. तुर्कमेनिस्तान
4. एशिया

a. a-4, b-1, c-2, d-3

b. a-1, b-2, c-3, d-4

c. a-2, b-3, c-4, d-1

d. a-4, b-1, c-3, d-2

- a-4, b-1, c-2, d-3

MCQs

Past Questions

Current Affairs

Study Notes

84. गोबी मरुभूमि (Gobi desert) कुन महादेशमा पर्दछ ? [खरिदार २०७४]

- a. एशिया b. युरोप c. अफ्रिका d. दक्षिण अमेरिका

- एशिया

85. भिक्टोरिया मरुभूमि कहाँ रहेको छ? [शाखा अधिकृत, २०७२]

- a. बेलायत b. फ्रान्स c. युगान्डा d. अष्ट्रेलिया

- अष्ट्रेलिया

86. ठुलोबाट सानो मरुभूमिको क्रम कुन सही छ ? [कर्णाली पाँचौं, २०७९।१।१७]

- a. Arabian-Gobi-Arctic b. Gobi-Arabian-Arctic c. Arctic-Arabian-Gobi
d. Arabian-Arctic-Gobi

- Arctic-Arabian-Gobi

87. जोडा मिलानमा तलको कुन सही छ ? [खरिदार, २०७५]

समूह I

- a) अफ्रिका
b) इराक
c) अन्टार्क्टिका
d) उत्तर अमेरिका

समूह II

- 1) नयाँ संसार
2) नाइल
3) बग्दाद



MCQs

Past Questions

Current Affairs

Study Notes

4) हिमच्यादर

a. a-2, b-3, c-4, d-1

b. a-4, b-3, c-2, d-1

c. a-2, b-1, c-3, d-4

d. a-4, b-2, c-3, d-1

- a-2, b-3, c-4, d-1

88. अष्ट्रेलियाको कुन राज्यलाई आइल्याण्ड स्टेटका रूपमा चिनिन्छ ? [शाखा अधिकृत, २०७१।१२।४]

a. Kangaroo Island

b. King Island

c. Melville Island

d. Tasmania Island

- Tasmania Island

89. उत्तर अमेरिका महादेशको सबैभन्दा अग्लो हिमाल कुन हो ? [नायब सुब्बा, २०७८।४।३०]

a. माउण्ट एलवर्ट (Mount Elbert)

b. माउण्ट स्विटने (Mount Whitney)

c. माउण्ट सेन्ट इलियस

(Mount Saint Elias)

d. माथिको कुनै पनि होइन (None of the above)

- माथिको कुनै पनि होइन (None of the above)

90. अमेरिका पत्ता लगाउने व्यक्ति को हुन् ? [CTEVT, सहायक प्रथम, २०७९।६।१]

a. कोलम्बस

b. जर्ज डब्लु बुस

c. एलेक्जेण्डर

d. मेकियावली

- कोलम्बस

91. अफ्रिका महादेशको अग्लो पहाड कुन हो ? [मधेश_पाँचौं, २०७९।६।१]

a. Kilimanjaro

b. Mount Elbrus

c. Matterhorn

d. Mount K2

- Kilimanjaro

92. एशिया महादेशको क्षेत्रफल कति छ ? [रा.वा.बैं. चौथो (नगद), २०७९।२।१५]

a. ३ करोड ३० लाख वर्ग कि.मि.

b. २ करोड २० लाख वर्ग कि.मि.

c. १ करोड ११ लाख

वर्ग कि.मि.

d. ४ करोड ४५ लाख वर्ग कि.मि.

- ४ करोड ४५ लाख वर्ग कि.मि.

93. एशिया महादेशले पृथ्वीको स्थलीय भागको कति प्रतिशत भूभाग ओगटेको छ ? [सशस्त्र प्र.स.नि. २०७८/८/१६]

- a. २०.७८% b. १४.६% c. २९.८% d. २५.९५%

- २९.८%

94. कुन कृत्रिम नहरले उत्तर र दक्षिण अमेरिका महादेशलाई छुट्याएको छ ? [रा. बी.क. लि. चौथो, २०८०/३/२१]

- a. पानामा नहर b. भोल्गा डोन नहर c. स्वेज नहर d. ग्राण्ड नहर

- पानामा नहर

95. एशिया र अफ्रिका महादेशलाई कुन सागरले छुट्याएको छ ? [सशस्त्र प्र.स.नि, २०८०/१/१८]

- a. लाल सागर b. क्यास्पियन सागर c. मृत सागर d. माथिका कुनै पनि होइनन्

- लाल सागर

96. एशिया र युरोप महादेशलाई छुट्याउने पर्वतको नाम के हो ? [सशस्त्र प्रहरी निरीक्षक, २०७८/९/८]

- a. युराल b. एण्डिज c. आल्पस् d. हिमालय

- युराल

97. जोडा मिलानमा कुन सही छ ? [खरिदार २०७९/६/८]

नदी

- 1) भोल्गा (Volga)
- 2) नाइल (Nile)
- 3) अमेजन (Amazon)
- 4) याङ्त्से (Yangtze)

महादेश

Past Questions

- a. अफ्रिका
b. दक्षिण अमेरिका
c. एशिया
d. युरोप

a. 1-d, 2-b 3 a 4-c

b. 1-d, 2-a, 3-b, 4-c

c. 1-b, 2-c, 3-d, 4-a

d. 1-d, 2-c, 3-a, 4-b

- 1-d, 2-a, 3-b, 4-c

98. विश्वमा सबैभन्दा धेरै सुन तथा हिरा उत्पादन हुने महादेश कुन हो? [खरिदार २०७४]

- a. एशिया
b. युरोप
c. उत्तर अमेरिका
d. अफ्रिका

- अफ्रिका

99. भूपरिवेष्टित राष्ट्र नभएको महादेश तलका मध्ये कुन हो ? [नेपाल टेलिकम, चौथो, टेक्निसियन, २०८०/४/१६]

- a. दक्षिण अमेरिका
b. उत्तर अमेरिका
c. युरोप
d. अष्ट्रेलिया

- उत्तर अमेरिका

100. मरुभूमि नभएको विश्वको एकमात्र महादेश कुन हो ? [नायब सुब्बा, २०७१]

- a. अफ्रिका
b. युरोप
c. उत्तर अमेरिका
d. अष्ट्रेलिया

- युरोप

101. एकअर्काको ऐनमा देखिने प्रतिबिम्ब (mirror image) हुने आकार भएका महादेशहरू कुन-कुन हुन् [नायब सुब्बा, २०७४]

- a. उत्तर अमेरिका र दक्षिण अमेरिका
b. एशिया र अफ्रिका
c. एशिया र युरोप
d. अफ्रिका र दक्षिण अमेरिका

- अफ्रिका र दक्षिण अमेरिका

102. निम्नलिखित जोडाहरू मिलान गर्नुहोस् । [नायब सुब्बा, २०७३]

महादेश (Continent)

- 1) यूरोप (Europe)
- 2) अफ्रिका (Africa)
- 3) अष्ट्रेलिया (Australia)
- 4) अन्टार्कटिका (Antarctica)

विशेषता (Characteristic)

- a) चिसो हावापानी विहीन
- b) सक्रिय ज्वालामुखी विहीन
- c) मुलुकविहीन
- d) मरुभूमि विहीन

a. 1-b, 2-c, 3-d, 4-a

b. 1-c, 2-b, 3-a, 4-d

c. 1-d, 2-a, 3-b, 4-c

d. 1-a, 2-d, 3-c, 4-b

- 1-d, 2-a, 3-b, 4-c

103. समूह I र II मा जोडा मिलाउनुहोस् र कोडबाट सही उत्तर छान्नुहोस् । [नायब सुब्बा, पाठ्यक्रमबाट]

समूह (Group) I

- a) एशिया (Asia)
- b) यूरोप (Europe)
- c) उत्तर अमेरिका (North America)
- d) अष्ट्रेलिया (Australia)

समूह (Group) II

1. नयाँ संसार (New World)
2. विषमताको महादेश (Continent of Extremes)
3. सबैभन्दा सानो महादेश (Smallest Continent)

Study Notes

Current Affairs

Past Questions

4. प्रायद्वीपहरूको पनि प्रायद्वीप (Peninsula of Peninsulas)

a. a-2, b-4, c-1, d-3

b. a-4, b-2, c-1, d-3

c. a-1, b-4, c-3, d-2

d. a-4, b-1, c-3, d-2

- a-2, b-4, c-1, d-3

104. "कङ्गारुको महादेश" भनेर कुन महादेशलाई चिनिन्छ ? [CTEVT, शाखा अधिकृत, २०७९।६।३]

a. अफ्रिका

b. युरोप

c. उत्तर अमेरिका

d. अष्ट्रेलिया

- अष्ट्रेलिया

105. नयाँ संसार भन्नाले कुन महादेशलाई बुझाउँछ ? (अधिकृत क्याडेट २०७८।७।२९, सशस्त्र प्रहरी निरीक्षक, २०८०/१/४)

a. अष्ट्रेलिया

b. दक्षिण अमेरिका

c. युरोप

d. उत्तर अमेरिका

- उत्तर अमेरिका

106. "अन्धकार महादेश" भनेर कुन महादेशलाई भनिन्छ ? [रासस, पाँचौं, २०७८।११।२०]

a. एशिया

b. दक्षिण अमेरिका

c. अन्टार्कटिका

d. अफ्रिका

- अफ्रिका

107. मानिसको घर भनेर कुन महादेशलाई चिनिन्छ ? [खरिदार, २०७५]

a. उत्तर अमेरिका

b. दक्षिण अमेरिका

c. एशिया

d. अष्ट्रेलिया

- एशिया

108. विश्वको सबैभन्दा पछि पत्ता लागेको महादेश कुन हो ? [खरिदार २०७९।५।२५]

a. दक्षिण अमेरिका

b. उत्तर अमेरिका

c. अन्टार्कटिका

d. अष्ट्रेलिया

- अन्टार्कटिका

Past Questions

109. सबैभन्दा पछि पत्ता लगाइएको महादेश कुन हो ? [खरिदार २०७०]

- a. उत्तर अमेरिका b. अष्ट्रेलिया c. दक्षिण अमेरिका d. अन्टार्कटिका

- अन्टार्कटिका

110. जनसंख्याको आधारमा दोस्रो ठूलो महादेश तलका मध्ये कुन हो? [रा.वा.बैं. चौथो, २०८०।१।२७]

- a. एसिया b. उत्तर अमेरिका c. दक्षिण अमेरिका d. अफ्रिका

- अफ्रिका

111. समूह I र समूह II बिच जोडा मिलाई कोडबाट सही उत्तर छान्नुहोस् । [शाखा अधिकृत, २०७१।१।२।४]

समूह (Group) I

- a) डेथभ्याली
b) क्यास्पियन सी
c) आयरा
d) पेनिन्सुला

समूह (Group) II

- 1) युरोप
2) दक्षिण अमेरिका
3) अष्ट्रेलिया
4) उत्तर अमेरिका

a. a-2, b-1, c-4, d-3

b. a-4, b-2, c-1, d-3

c. a-1, b-4, c-3, d-2

d. a-4, b-1, c-3, d-2

- a-4, b-1, c-3, d-2

112. सबैभाग पृथ्वीको उत्तरी गोलार्द्धमा पर्ने महादेश कुन हो? [ने.ना.उ.प्रा. अधिकृत छैटाँ (प्रा), २०७६।८।५]

- a. युरोप b. उत्तर अमेरिका c. दक्षिण अमेरिका d. अष्ट्रेलिया

- युरोप

113. तल दिइएका मध्ये क्षेत्रफलका आधारमा ठूलो देखि सानो महादेशको क्रम कुन सही हो? [नायब सुब्बा, २०७९/१/३]

a. उत्तर अमेरिका, दक्षिण अमेरिका, युरोप, अष्ट्रेलिया

b. उत्तर अमेरिका, दक्षिण अमेरिका, अष्ट्रेलिया, युरोप

c. युरोप, अष्ट्रेलिया, दक्षिण अमेरिका, उत्तर अमेरिका
अमेरिका

d. अष्ट्रेलिया, युरोप, उत्तर अमेरिका, दक्षिण

- उत्तर अमेरिका, दक्षिण अमेरिका, युरोप, अष्ट्रेलिया

114. सबैभन्दा सानो महादेश कुन हो ? [खरिदार २०७१, कर्णाली पाँचौं, २०७९/१/१७]

a. युरोप

b. अष्ट्रेलिया

c. अन्टार्कटिका

d. दक्षिण अमेरिका

- अष्ट्रेलिया

115. क्षेत्रफलका हिसाबले तेस्रो ठूलो महादेश कुन हो ? [नायब सुब्बा, २०७२]

a. अफ्रिका

b. दक्षिण अमेरिका

c. उत्तर अमेरिका

d. युरोप

- उत्तर अमेरिका

116. तल दिइएका मध्ये कुन महादेशलाई अन्तिम सिमाना (The Last Frontier) भनिन्छ ? [शाखा

अधिकृत, २०७९/१/२/४]

a. एशिया

b. उत्तर अमेरिका

c. अफ्रिका

d. अष्ट्रेलिया

- अष्ट्रेलिया

117. कुनै स्थानको तापक्रम एकाएक घट्यो भने त्यस ठाउँको सापेक्षित आर्द्रता....। [शाखा अधिकृत, २०७३]

a. बढ्छ

b. घट्छ

c. पहिले तल झर्छ त्यसपछि बढ्छ

d. पहिले माथि जान्छ त्यसपछि

घट्छ

- बढ्छ

Past Questions

GET IT ON
Google Play

118. वर्षको सबैभन्दा छोटो दिन कुन हो ? [CTEVT, सहायक प्रथम, २०७९।६।१]

- a. २१ डिसेम्बर b. २२ डिसेम्बर c. २१ अक्टोबर d. २२ अक्टोबर

- २२ डिसेम्बर

119. तलका ऋतुहरूको क्रममध्ये कुन विकल्प सही छ ? [CTEVT, सहायक द्वितीय, २०७९।५।२८]

- a. शिशिर, हेमन्त, गृष्म, शरद, वर्षा, वसन्त
b. वसन्त, गृष्म, वर्षा, शरद, हेमन्त, शिशिर
c. वसन्त, गृष्म, वर्षा, शरद, शिशिर, हेमन्त
d. वसन्त, गृष्म, वर्षा, शिशिर, शरद, हेमन्त

- वसन्त, गृष्म, वर्षा, शरद, हेमन्त, शिशिर

120. असोज र कार्तिक महिनामा शरद ऋतु पर्दछ भने माघ एवं फागुन महिनामा कुन ऋतु पर्दछ ? [शिक्षा प्रा.स. २०७९]

- a. वसन्त b. हेमन्त c. शरद d. शिशिर

- शिशिर

121. दक्षिणी गोलार्द्धमा 21 June पछि कुन ऋतु शुरू हुन्छ ? [शाखा अधिकृत, २०७९]

- a. शरद ऋतु b. ग्रीष्म / वर्षा ऋतु c. वसन्त ऋतु d. शिशिर/ जाडो ऋतु

- वसन्त ऋतु

122. "संसारको चिडियाखाना" भनेर चिनिने "सभाना ग्रासल्याण्ड" कुन महादेशमा पर्छ ? [खरिदार २०७९]

- a. दक्षिण अमेरिका b. अफ्रिका c. अष्ट्रेलिया d. एशिया

- अफ्रिका

123. नेपालको हावापानीमा निम्नमध्ये कुनले प्रभाव पार्दैन ? [नायब सुब्बा, २०७६]

- a. अक्षांश b. सामुन्द्रिक दूरी c. धरातलीय उचाइ d. नदीको उपस्थिति

- नदीको उपस्थिति

124. बंगालको खाडीकोचक्रपातका कारण नेपालमा वि.सं. २०७५ मा ठन्डी बढेको हो? [नायब सुब्बा, २०७५]

- a. हाइफाड b. कोरिङ्गा c. थाई d. हुग्ली

- थाई

125. वायु / हावाको मौसमी परिवर्तन..... को खास विशेषता हो । [शाखा अधिकृत, २०७१]

- a. भूमध्यरेखीय जलवायु b. भूमध्यसागरीय जलवायु c. मनसुन जलवायु d. माथिका सबै जलवायु

- मनसुन जलवायु

126. वायुको गति मापन गर्ने यन्त्रलाई भनिन्छ ? [नेपाल राष्ट्र बैंक, सहायक निर्देशक, २०७९ | ९ | २३]

- a. एनिमोमिटर b. अल्टिमिटर c. ब्यारोमिटर d. एक्स्लेरोमिटर

- एनिमोमिटर

127. व्यापारिक वायु (Trade winds) प्रायः पृथ्वीको कुन क्षेत्रमा चलने गर्दछ? [रासस, पाँचौं, २०७८ | ११ | २०]

- a. मरुभूमि b. प्रशान्त महासागर c. भूमध्य रेखा d. माथिका सबै

- भूमध्य रेखा

128. निम्न मध्येमा व्यापारिक वायु (Trade winds) कहाँ पाइन्छ ? [शाखा अधिकृत, पाठ्यक्रमबाट]

- a. युरोपमाथि b. केप अफ गूड होपमा c. अट्लान्टिक महासागर (Atlantic Ocean) मा d. अयनमण्डल (Tropics) बीच र भूमध्य रेखा (Equator) मा

- अयनमण्डल (Tropics) बीच र भूमध्य रेखा (Equator) मा

129. समूह I र II को जोडा मिलाई कोडबाट सही उत्तर छान्नुहोस् । [खरिदार २०७०]

समूह I

- a) म्याग्मा

Study Notes

- b) सिस्मोग्राफ
c) क्रोनोमिटर
d) विश्व समय

समूह II

- 1) भूकम्प
2) ग्रीनवीच
3) ज्वालामुखी
4) स्थानीय समय (Local time)

a. a3, b1, c4, d2

b. a3, b1, c2, d4

c. a2, b4, c1, d3

d. a4, b3, c2, d1

- a3, b1, c4, d2

130. देहायका कथनहरू मध्ये कुन सही छन् ? [शाखा अधिकृत, २०७४]

- 1) "चट्याङको देश" उपनामले भुटानलाई चिनिन्छ ।
2) चट्याङ उत्पन्न गराउने वादललाई मौसम विज्ञानमा क्युमिलोनिम्बस (cumulonimbus) भनिन्छ ।
3) चट्याङ 3 प्रकारले हुने गर्दछ ।
4) चट्याङ सम्बन्धी 2 दिने अन्तर्राष्ट्रिय सम्मेलन 2016 काठमाण्डौमा आयोजना भएको थियो ।

a. 1, 2 र 4 सही

b. 1, 3 र 4 सही

c. 1, 2 र 3 सही

d. 1, 2, 3 र 4 सबै सही

- 1, 2 र 4 सही

131. नेपालमा भूकम्प सुरक्षा दिवस कहिले मनाइन्छ ? [सशस्त्र प्र.स.नि. २०७८ | ८ | १६]

a. वैशाख १२ गते

b. वैशाख २९ गते

c. माघ २ गते

d. चैत्र २ गते

- माघ २ गते

132. नेपालमा २०७२ वैशाख १२ गते गएको भूकम्प कति रेक्टर स्केलको थियो? [नेपाल आयल निगम, पाँच (सिभिल), २०७१।१०।२७]

- a. ५.७ b. ७.५ c. ७.६ d. ६.७

- ७.६

- ✓ नेपालको आधिकारिक स्रोत अनुसार ७.६ रेक्टर स्केलको भूकम्प गएको
- ✓ स्थान: बारपाक गोरखा जिल्ला
- ✓ फोकस अर्थात् हाइपोसेन्टर जमिनबाट केवल १५ किलोमिटर को गहिराईमा
- ✓ स्वदेशी र विदेशी गरी जम्मा ९७० मानिसको मृत्यु
- ✓ मृत्यु हुनेमा ५६% महिला र ४४% पुरुष
- ✓ ९० सालको भूकम्प पछिको दोस्रो ठूलो भूकम्प

133. समूह-1 र समूह-2 बीच जोडा मिलाउनुहोस् र सही उत्तर छान्नुहोस् । [खरिदार २०७१।५।२५]

समूह-1

- a) समुन्द्रको गहिराई नाप्ने यन्त्र
- b) भूकम्पको गति / तीब्रता नाप्ने यन्त्र
- c) Cotopaxi
- d) 0° को देशान्तर रेखा

समूह - 2

- i) ज्वालामुखी
- ii) ग्रीनवीच
- iii) सिस्मोग्राफ

Study Notes

Current Affairs

Past Questions

iv) फेदोमिटर

a. a-iv, b-iii, c-i, d-ii

b. a-ii, b-iv, c-iii, d-i

c. a-i, b-ii, c-iv, d-iii

d. a-iii, b-i, c-ii, d-iv

- a-iv, b-iii, c-i, d-ii

134. पृथ्वीको भित्री भागमा सर्वप्रथम कम्पन हुने केन्द्रलाई के भनिन्छ? [शाखा अधिकृत, २०७३]

a. इपिसेन्टर

b. फोकस

c. दुबै ठीक

d. कुनै पनि होइन

- फोकस

135. एक डिग्री देशान्तरको फरकमा कति समयको अन्तर हुन्छ ? [खरिदार २०६९, खरिदार २०७६]

a. ४ मिनेट

b. ८ मिनेट

c. १२ मिनेट

d. १६ मिनेट

- ४ मिनेट

136. निम्नलिखित कथनहरू बारेमा विचार गर्नुहोस् [शाखा अधिकृत, पाठ्यक्रमबाट]

1. पृथ्वी पूर्वबाट पश्चिमतिर घुम्छ ।

2. पृथ्वी पश्चिमबाट पूर्वतिर घुम्छ ।

3. भूमध्य रेखामा सबैभन्दा बढी गर्मी हुन्छ ।

4. प्रत्येक १ डिग्री देशान्तरमा ४ मिनेटको समय फरक पर्छ ।

माथि उल्लिखित कथनहरूमा कुन ठीक हो / हुन् ?

a. 1, 2 र 3 मात्र

b. 2 मात्र

c. 2, 3 र 4 मात्र

d. 2 र 3 मात्र

- 2, 3 र 4 मात्र

137. नेपालमा २०७२ वैशाख १२ गते गएको भूकम्प कति रेक्टर स्केलको थियो? [नेपाल आयल निगम, पाँच (सिभिल), २०७९।१०।२७]

a. ५.७

b. ७.५

c. ७.६

d. ६.७

- ७.६

138. तलकामध्ये कुन सही छैन ? [खरिदार २०७९।५।२५]

a. पृथ्वीको कूल भू-भागमा स्थलमण्डल- ४९ प्रतिशत
देशान्तर रेखाले काटेर गएको स्थान- ग्रीनवीच

b. भूमध्येरेखा 0 डिग्री अक्षांश रेखा

c. शून्य

d. एक सय असी डिग्री देशान्तर रेखा अन्तर्राष्ट्रिय तिथि रेखा

- पृथ्वीको कूल भू-भागमा स्थलमण्डल- ४९ प्रतिशत

139. तल दिइएका मध्ये कुन भनाइ ठीक छ ? [मा.वि. शिक्षक २०७९]

a. अक्षांश बढ्दै जाँदा सम्बन्धित ठाउँको तापक्रम घट्दै जान्छ ।

b. अक्षांश घट्दै जाँदा सम्बन्धित ठाउँको तापक्रम

पनि घट्दै जान्छ ।

c. देशान्तर रेखाहरू वृत्ताकार स्वरूपमा हुन्छन् ।

d. ०° देशान्तर रेखालाई

अन्तर्राष्ट्रिय तिथि रेखा भनिन्छ ।

- अक्षांश बढ्दै जाँदा सम्बन्धित ठाउँको तापक्रम घट्दै जान्छ ।

140. निम्न भनाई मध्ये सही भनाई कुन हो ? [नायब सुब्बा, २०७६]

a. अन्तर्राष्ट्रिय तिथि रेखा १८० डिग्री देशान्तर रेखामा आधारित छ ।

b. १६ डिग्री देशान्तर बराबर १ घण्टा १४

मिनेट समय हुन्छ ।

c. एक देशमा एकमात्र प्रमाणिक समय हुने गर्दछ ।

d. भूमध्य रेखा सबैभन्दा

छोटो अक्षांश रेखा हो ।

- अन्तर्राष्ट्रिय तिथि रेखा १८० डिग्री देशान्तर रेखामा आधारित छ ।

b)

✓ एक डिग्री बराबर ४ मिनेट हुन्छ

✓ १५ डिग्री बराबर ६० मिनेट अर्थात् एक घण्टा हुन्छ।

✓ त्यसैले १६ डिग्री भनेको १ घण्टा ४ मिनेट हुन्छ।

c)

✓ एक देशमा एकभन्दा बढी प्रमाणिक समय हुनसक्छ।

✓ सबैभन्दा बढी प्रमाणिक समय भएको राष्ट्र फ्रान्स (१२ वटा), दोस्रो रुस (११ वटा)

d)

✓ भूमध्य रेखा सबैभन्दा छोटो नभई सबैभन्दा लामो चाहिँ हो।

141. तलका कथनहरूबारे विचार गर्नुहोस् र सही उत्तर छान्नुहोस्। [शाखा अधिकृत, २०७३]

1. 180° देशान्तर रेखालाई अन्तर्राष्ट्रिय तिथिरेखा भनिन्छ।
2. दक्षिणी ध्रुव उत्तरी ध्रुवको तुलनामा कम ठण्डा छ।
3. सबै देशको ग्रीनवीच मिन टाइम (GMT) एउटै हुन्छ।
4. अरेबियन मरुभूमि संसारको सबैभन्दा ठूलो मरुभूमि हो।

a. 1, 2 र 4 मात्र ठीक

b. 1 र 4 मात्र ठीक

c. 1 र 3 मात्र ठीक

d. 2, 3 र 4 मात्र ठीक

- 1 र 3 मात्र ठीक

142. GMT को पूरा रूप के हो? [ना.सु. समावेशी, २०६९]

a. Greenwich Major Time

b. Greenwich Mid Time

c. Greenwich Mean Time

d. Greenwich Main Time

- Greenwich Mean Time

143. बेलायतको ग्रीनविच (Greenwich) भन्ने ठाउँ भएर जाने काल्पनिक शुन्य डिग्री देशान्तर रेखालाई के भनिन्छ? [खरिदार २०८०/६/१६]

a. अन्तर्राष्ट्रिय तिथि रेखा
मध्यान्ह रेखा

b. मध्य देशान्तर रेखा

c. प्रधान देशान्तर रेखा

d. प्रधान

- प्रधान मध्यान्ह रेखा

144. निम्न कथनहरू मनन् गरी सही उत्तर छनौट गर्नुहोस्।

i. कुनै स्थानको अक्षांश (Latitude) लाई त्यस स्थानको समय (Time) को सूचक (Indicator) मानिन्छ।

ii. कुनै स्थानको देशान्तर (Longitude) लाई त्यस स्थानको तापक्रम (Temperature) को सूचक

(Indicator) मानिन्छ। [खरिदार २०७९।६।८]

a. i मात्र सही हो

b. ii मात्र सही हो

c. i र ii दुवै सही हुन्

d. i र ii दुवै सही होइनन्

- i र ii दुवै सही होइनन्

✓ ठिक उल्टो चाहिँ हुन्छ। अक्षांशले तापक्रम र देशान्तरले समय।

145. कुनै ठाउँको स्थानीय समय 06:00 am हुँदा ग्रीनवीच मध्यान्ह समय (GMT) 02:00 am. छ भने त्यस ठाउँको देशान्तर (longitude) कति हुन्छ? [नायब सुब्बा, पाठ्यक्रमबाट]

a. 60°W

b. 60°E

c. 60°N

d. 60°S

- 60°E

146. एक डिग्री देशान्तरमा कति समयको फरक पर्दछ? [नेपाल टेलिकम, चौथो, टेक्सिसियन, २०८०।४।१६]

a. १ मिनेट

b. २ मिनेट

c. ४ मिनेट

d. ५ मिनेट

- ४ मिनेट

147. तलका मध्ये कुन भनाइ सही हो? छान्नुहोस्। [खरिदार आ. प्र. २०७९।९।२९]

a. नेपाल भूमध्य रेखीय क्षेत्र (Equatorial region) मा रहेको छ।

b. नेपाल कर्कट रेखा (Tropic of

Cancer) र ध्रुवीय रेखा (Arctic line) को बीचमा रहेको छ।

c. नेपाल भूमध्य रेखा र कर्कट रेखाबीचमा रहेको

छ। d. नेपाल भूमध्ये रेखा र मकर रेखा (Tropic of Capricorn) बीच रहेको छ।

- नेपाल कर्कट रेखा (Tropic of Cancer) र ध्रुवीय रेखा (Arctic line) को बीचमा रहेको छ।

148. अक्षांश र तापक्रमको सम्बन्ध कस्तो हुन्छ ? [खरिदार, २०७३]

- 1) अक्षांश बढ्दा तापक्रम बढ्छ ।
- 2) अक्षांश घट्दा तापक्रम घट्छ ।
- 3) अक्षांश बढ्दा तापक्रम घट्छ ।
- 4) अक्षांश घट्दा तापक्रम बढ्छ ।

a. 2 र 4 ठीक

b. 1 र 2 ठीक

c. 1 र 3 ठीक

d. 3 र 4 ठीक

- 3 र 4 ठीक

149. 23(1/2) डिग्रीको उत्तरी अक्षांशलाई के भनिन्छ? [सशस्त्र प्र.स.नि. २०७८/८/१६]

a. मकर रेखा

b. कर्कट रेखा

c. भूमध्य रेखा

d. कुमेरू वृत्त

- कर्कट रेखा

150. १ डिग्री अक्षांश बराबर कति किलोमिटर हुन्छ? [ने.वा.नि. पाँचौं (प्रा), २०८०/२/११]

a. १०८

b. १०९

c. ११०

d. १११

- १११

151. दिईएका भनाई ठिक वा बेठिक के हुन् ? छुट्याउनुहोस् । [लुम्बिनी चौथो, २०७९।१०।१४]

क) अक्षांश रेखाहरू ४५ डिग्री को फरकमा हुन्छन् ।

ख) अक्षांश रेखा पूर्ण वृत्ताकार हुन्छ ।

a. क ठिक ख बेठिक

b. क बेठिक ख ठिक

c. क र ख दुवै ठिक

d. क र ख दुवै बेठिक

- क बेठिक ख ठिक

152. निम्न देशहरूका समूहमा भूमध्यरेखा कुन देशहरूका समूहबाट पार हुन्छ ? [नायब_सुब्बा, २०७८।४।३०]

- a. इक्वेडर, सोमालिया, मलेशिया, इन्डोनेशिया
b. कोलम्बिया, युगान्डा, माल्दिभ्स, मलेशिया
c. ब्राजिल, गेबन, मलेशिया, इन्डोनेशिया
d. इक्वेडर, केन्या, माल्दिभ्स, इन्डोनेशिया

- इक्वेडर, केन्या, माल्दिभ्स, इन्डोनेशिया

153. भूमध्य रेखाबाट कति डिग्री उत्तरमा उत्तरी ध्रुव (North Pole) अवस्थित छ ? [ज.उ.तथा प्र.क.लि. चौथो, २०८०/२/२३]

- a. ३६० डिग्री
b. १८० डिग्री
c. ९० डिग्री
d. ६० डिग्री

- १८० डिग्री

154. पृथ्वीमा सबै भन्दा पहिले कुन प्राणी रहेको मानिन्छ ? [मधेश_पाँचौं, २०८०।८।१६]

- a. माईक्रोब्स
b. जेलिफिस
c. लाईका
d. कुकुर

- जेलिफिस

155. वस्तुको तौल निम्नमध्ये कुन ठाउँमा लगियो भने उल्लेखनीय किसिमले वृद्धि हुन्छ?

[शाखा अधिकृत: २०७१]

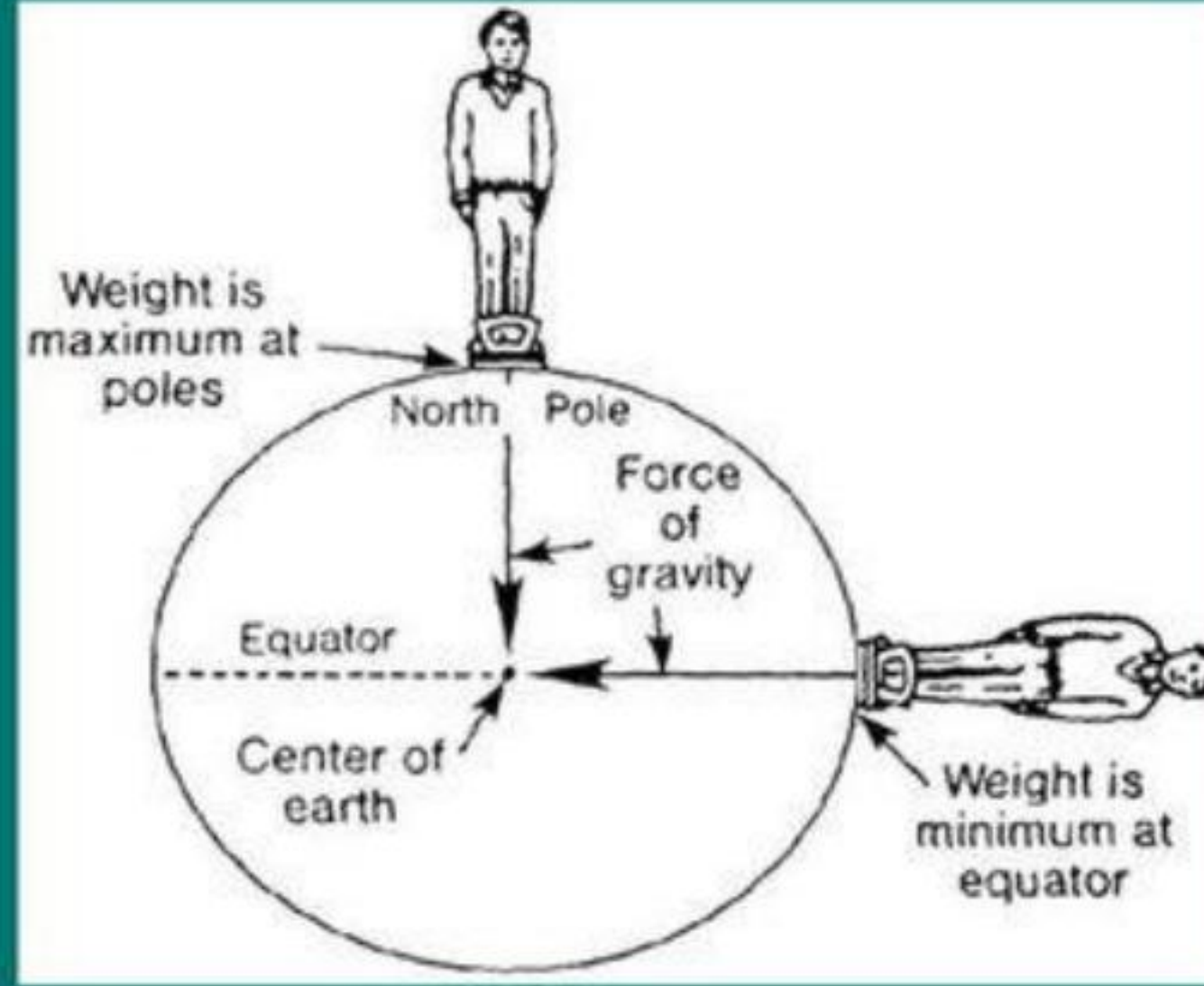
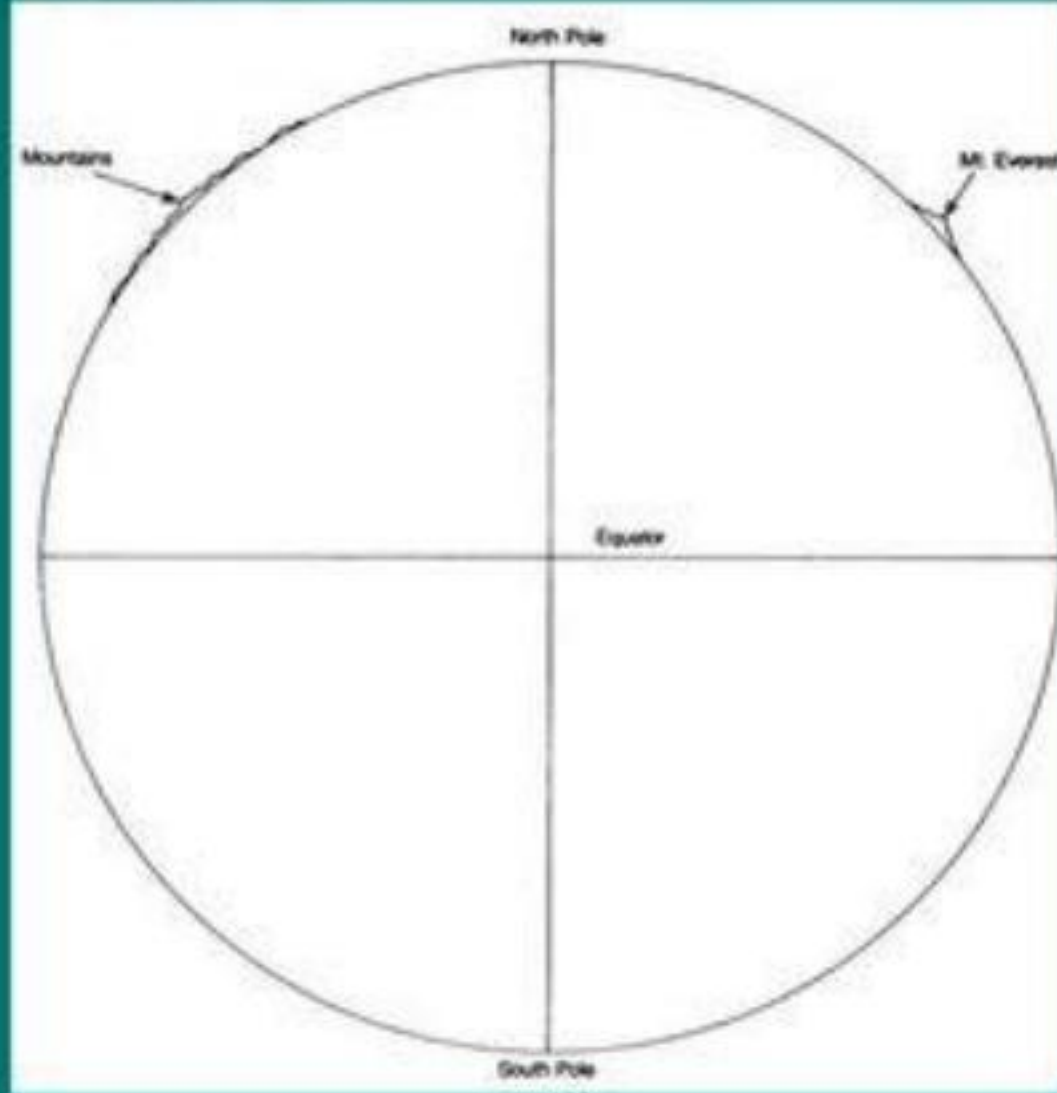
- a. अन्तर्राष्ट्रिय मिति रेखा
b. ध्रुव
c. देशान्तरको मेरिडियन
d. भूमध्य रेखा

- ध्रुव

ध्रुव (Poles):

✓ पृथ्वीको Radius (त्रिज्या) poles मा सबै भन्दा कम हुन्छ। जति कम radius झनै बढि तौल।
(previous error corrected)

The pull of gravity is weaker farther from the center of Earth



You weigh just a bit less at the equator than at the pole!

156. सुमेरु महासागरले कुन कुन राष्ट्रलाई छुन्छ?

[खरिदार: २०६८ जेठ २७ (खुल्ला तर्फ)]

a. क्यानडा र डेनमार्क

b. नर्वे र आइसल्याण्ड

c. माथि उल्लेखित सबै

d. कुनै पनि होइन

- माथि उल्लेखित सबै

★ सुमेरु महासागरले छोएको राष्ट्रहरु (जानी राखौं):

➔ क्यानडा

➔ डेनमार्क

➔ फिनल्याण्ड

➔ आइसल्याण्ड

➔ नर्वे

➔ स्वीडेन

➔ रूस

➔ संयुक्त राज्य अमेरिका

157. क्षेत्रफलका आधारमा निम्न महादेशहरूको क्रम सानोबाट ठूलोतर्फ कुन चाँही ठिक छ ?

[नेपाल प्रहरी, प्रहरी सहायक निरीक्षक (जनपद): २०७४ कार्तिक २५]

a. उत्तर अमेरिका-अफ्रिका-दक्षिण अमेरिका-अष्ट्रेलिया

b. दक्षिण अमेरिका-अष्ट्रेलिया-उत्तर अमेरिका-अफ्रिका

c. अष्ट्रेलिया-दक्षिण अमेरिका-उत्तर अमेरिका-अफ्रिका

d. माथि उल्लेखित कुनैपनि हैन

- अष्ट्रेलिया-दक्षिण अमेरिका-उत्तर अमेरिका-अफ्रिका

★ भूमि क्षेत्रको आधारमा सबैभन्दा सानो देखि ठूलो सम्म महादेशहरूको सूची (जानी राखौं):

➔ अस्ट्रेलिया

➔ युरोप

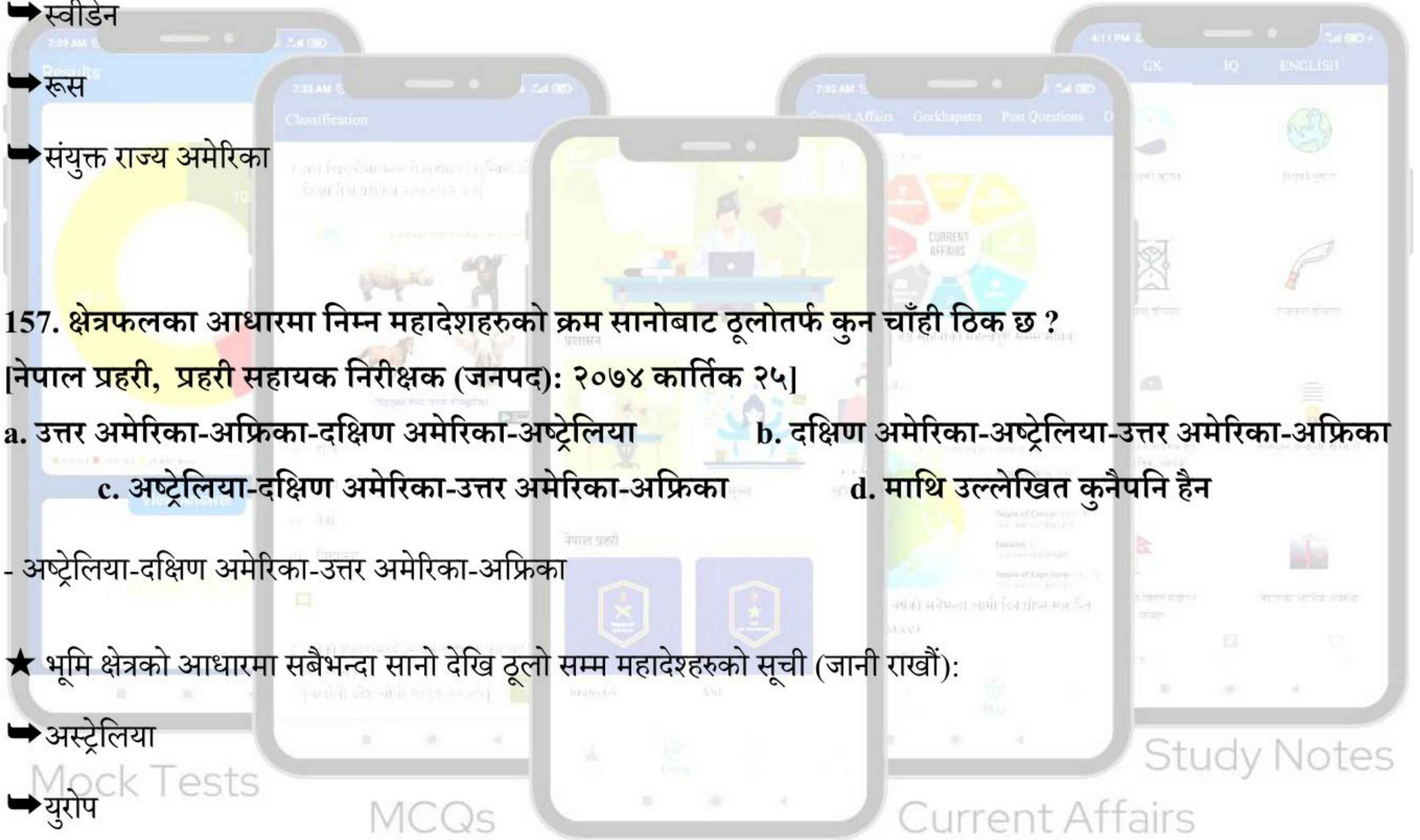
➔ अन्टार्क्टिका

➔ दक्षिण अमेरिका

➔ उत्तर अमेरिका

➔ अफ्रिका

➔ एशिया



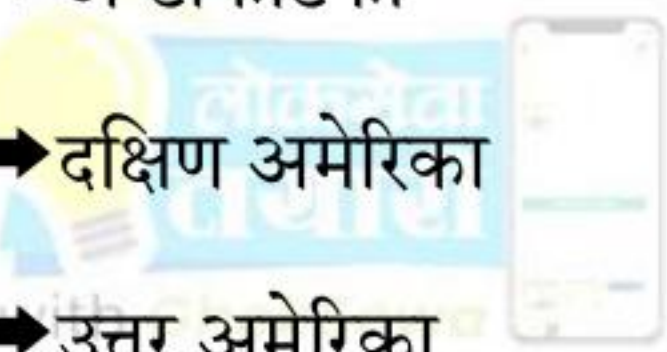
Study Notes

Current Affairs

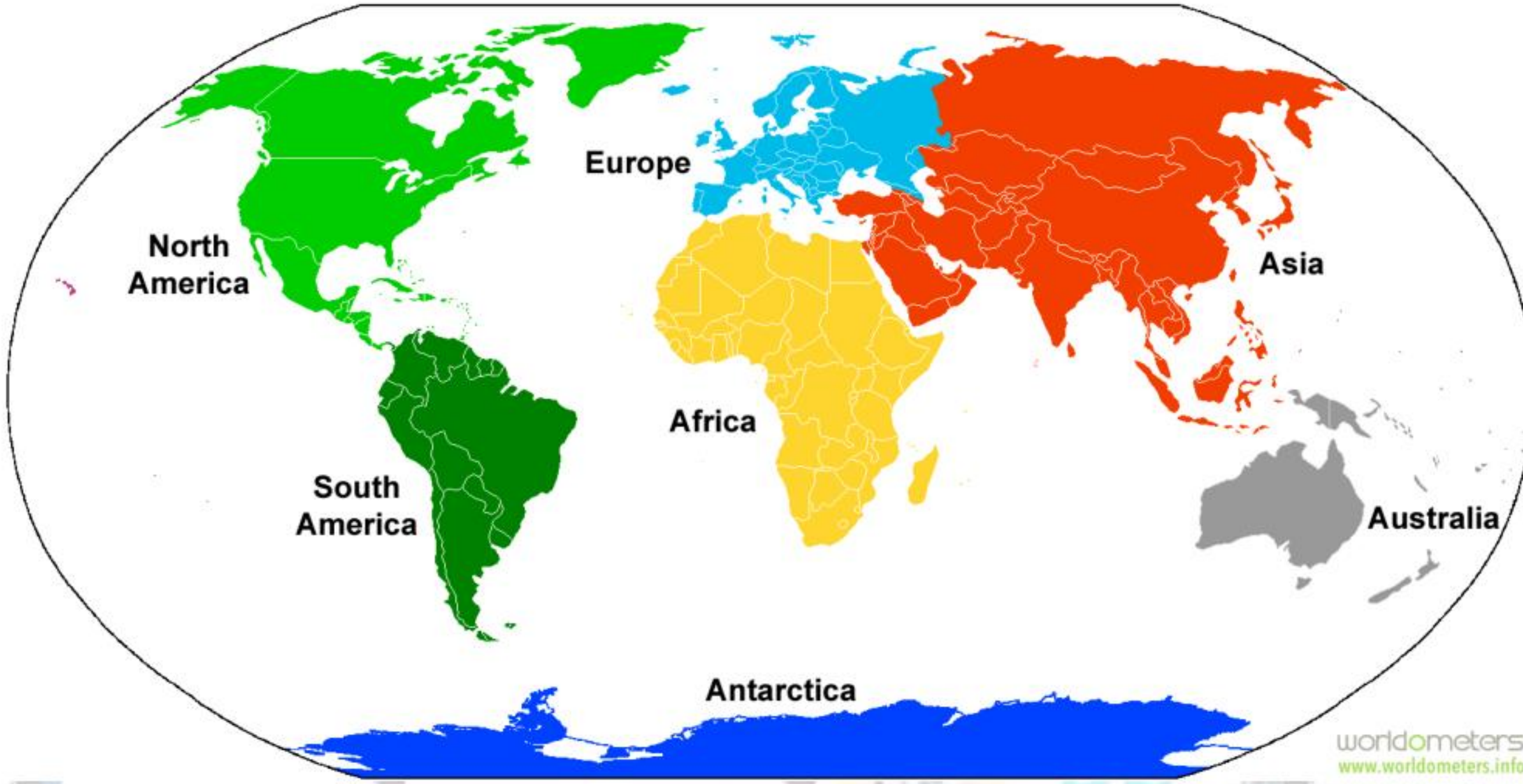
Past Questions

MCQs

Mock Tests



7 Continents



158. दुई महादेशमा रहेको राष्ट्र कुन हो ?

[नेपाल प्रहरी, प्रहरी निरीक्षक (जगपद): २०७३ कार्तिक ८]

a. टर्की b. रुस c. कजाकिस्तान d. माथि उल्लेखित सबै

- माथि उल्लेखित सबै

➔ अन्तरमहाद्वीपीय राष्ट्रहरू एक भन्दा बढी महादेशमा अवस्थित देशहरू हुन्।

★ केहि अन्तरमहादेशीय देशहरू (जानी राखौं:)

➔ रुस - यूरोप र एशिया

➔ कजाकिस्तान - यूरोप र एशिया

➔ टर्की - यूरोप र एशिया

➔ इजिप्ट - अफ्रीका र एशिया

Study Notes

Current Affairs

Past Questions

159. अष्ट्रेलिया र अफ्रिकाको बीचमा कुन महासागर रहेको छ?

[नेपाल सेना, अधिकृत क्याडेट: २०७९ असार २३]

a. प्रशान्त महासागर

b. हिन्द महासागर

c. कुमेरु महासागर

d. सुमेरु महासागर

- हिन्द महासागर

★ कुन महासागर कुन महादेशको बीचमा अवस्थित (जानी राखौं):

→ उत्तर आन्ध्र महासागर: उत्तर अमेरिका र युरोप बीच स्थित छ।

→ दक्षिण आन्ध्र महासागर: दक्षिण अमेरिका र अफ्रिका बीच अवस्थित छ।

→ उत्तर प्रशान्त महासागर: उत्तर अमेरिका र एसिया बीचमा अवस्थित छ।

→ दक्षिण प्रशान्त महासागर: दक्षिण अमेरिका, अष्ट्रेलिया र एसियाको बीचमा अवस्थित छ।

→ हिन्द महासागर: अफ्रीका र अस्ट्रेलियाको बीचमा अवस्थित छ।

→ कुमेरु महासागर: उत्तरी अमेरिका, यूरोप र एसिया (उत्तरी ध्रुव वरपर) को बीचमा अवस्थित छ।

→ सुमेरु महासागर: दक्षिण अमेरिका, अफ्रिका, अष्ट्रेलिया र हिन्द महासागरको बीचमा रहेको अन्टार्क्टिकालाई घेरेको छ।

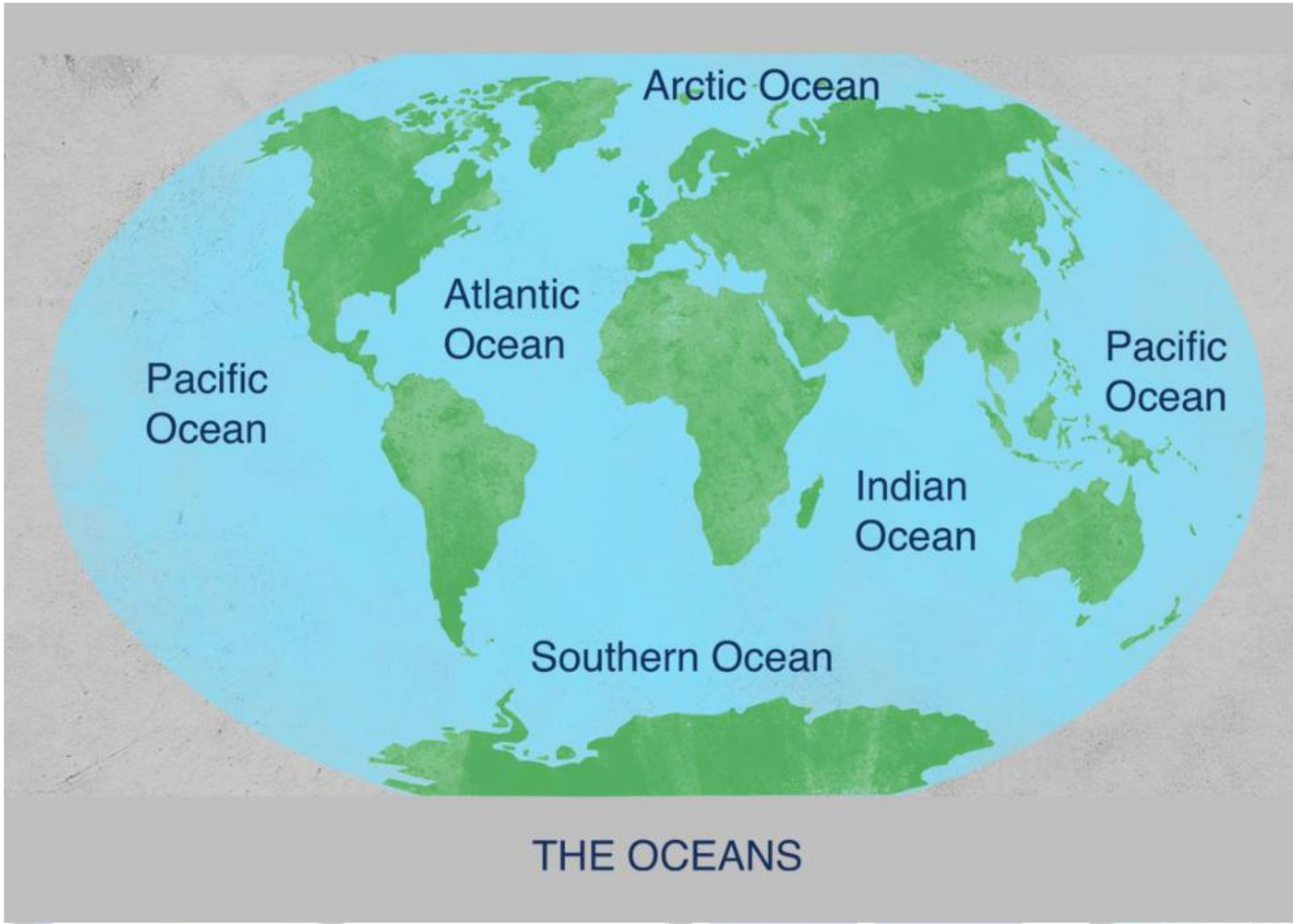
Mock Tests

MCQs

Past Questions

Current Affairs

Study Notes



160. विश्वमा कतिवटा महादेशहरू छन्?

[नेपाल सेना, अधिकृत क्याडेट: २०७९ असार २३]

- a. ४ b. ५ c. ६ d. ७

Mock Tests
- ७

MCQs

Past Questions

Current Affairs

Study Notes

★ सबै महादेशका नामहरू (जानी राखौं):

➔ अफ्रिका

➔ अन्टार्कटिका

➔ एशिया

➔ युरोप

➔ उत्तर अमेरिका

➔ दक्षिण अमेरिका

➔ अष्ट्रेलिया (कहिलेकाहीं ओशिनिया भनिन्छ, जसमा अस्ट्रेलिया र अन्य प्रशान्त टापुहरू समावेश छन्)



161. विश्वको सबैभन्दा धेरै जनसंख्या भएको महादेश कुन हो?

[नेपाल सेना, अधिकृत क्याडेट: २०७९ असार २३]

a. एशिया

b. यूरोप

c. अस्ट्रेलिया

d. उत्तर अमेरिका

- एशिया

★ जनसंख्याको आधारमा ठुलो देखि सानो महादेशको सुची (जानी राखौं):

➔ एसिया - ६१.५६%

➔ अफ्रिका - १८.६८%

Study Notes

Current Affairs

Past Questions

➔ यूरोप - ९.२६%

➔ उत्तरी अमेरिका - ७.६%

➔ दक्षिण अमेरिका - ५.५३%

➔ ओशिनिया - ०.५८%

162. तलका मध्ये कुनलाई अन्तराष्ट्रिय तिथिरेखा भनिन्छ ?

[नेपाल सेना, अधिकृत क्याडेट: २०७९ असार २३]

a. ० डिग्री देशान्तर

b. ० डिग्री अक्षांश

c. १८० डिग्री देशान्तर रेखा

d. लगभग

२३.५ डिग्री उत्तर अक्षांश

- १८० डिग्री देशान्तर रेखा

★ पृथ्वीमा कोरिएका केही प्रमुख काल्पनिक भौगोलिक रेखाहरू र तिनीहरूको डिग्री (जानी राखौं):

➔ Equator (भूमध्य रेखा): 0 degrees latitude

➔ Prime Meridian (प्राइम मेरिडियन): 0 degrees longitude

➔ Tropic of Cancer (कर्कट रेखा): Approximately 23.5 degrees north latitude

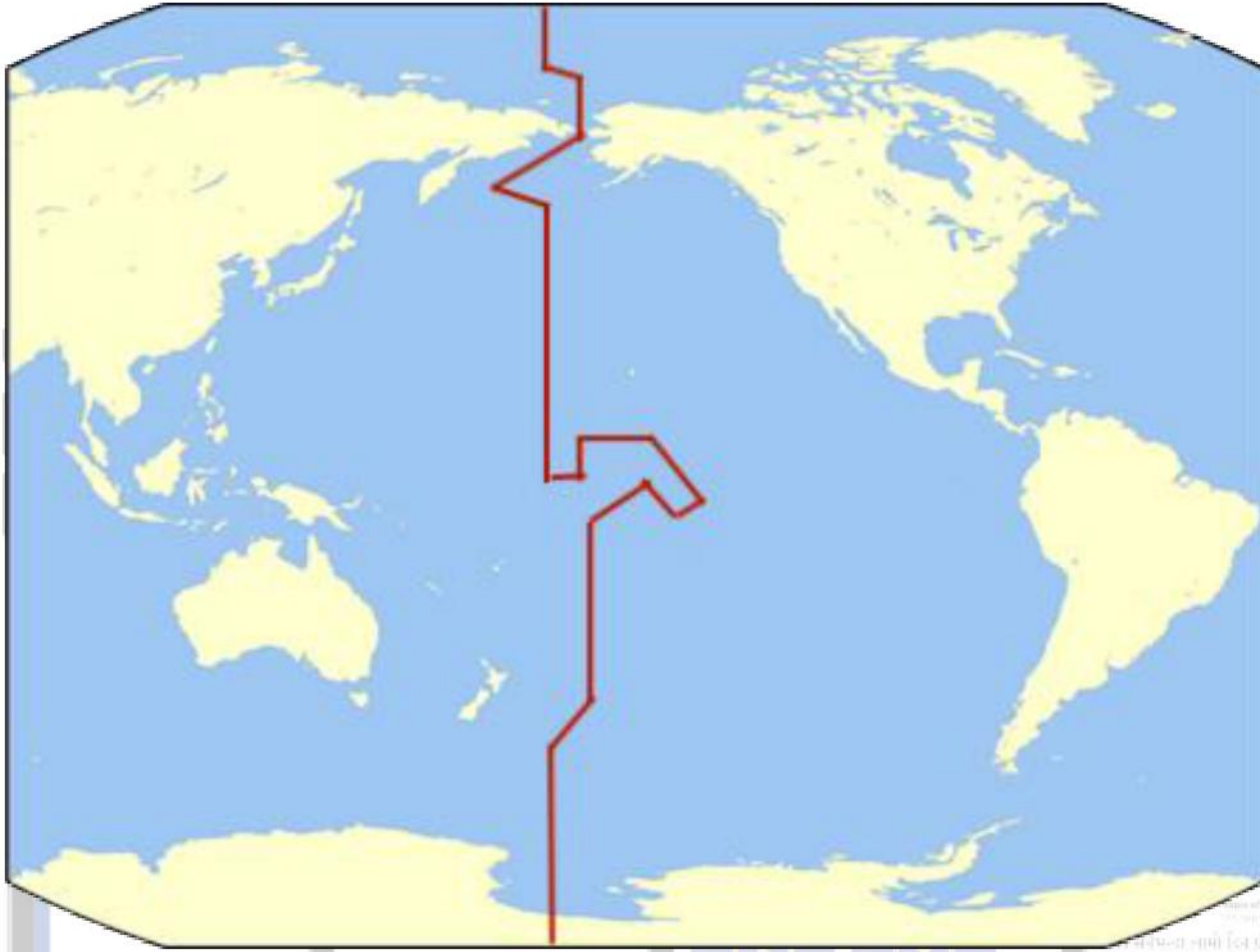
➔ Tropic of Capricorn (मक्कर रेखा): Approximately 23.5 degrees south latitude

➔ International Date Line (अन्तर्राष्ट्रिय मिति रेखा): Roughly follows the 180th meridian, although it deviates to

avoid

अन्तर्राष्ट्रिय तिथिरेखा किन बाङ्गोटिङ्गो गरी निर्धारण गरिएको छ?

➔ एउटै राष्ट्रमा पनि छुट्टा छुट्टै समय नहोस् भन्ने हिसाबमा यस्तो गरिएको हो।



163. अर्न्तराष्ट्रीय तिथि रेखा, जुन उत्तरी ध्रुवबाट दक्षिणी ध्रुवतिर जाने एउटा काल्पनिक रेखा हो, कुन महासागर हुँदै जान्छ?
[नेपाल सेना, अधिकृत क्याडेट: २०७९ असार २३]

- a. प्रशान्त महासागर b. आन्ध्र महासागर c. हिन्द महासागर d. कुमेरु महासागर

- प्रशान्त महासागर

★ कुन भौगोलिक रेखालाई कुन महासागरले छोएर जान्छ (जानी राखौं):

➔ भूमध्य रेखा - आन्ध्र, प्रशान्त र हिन्द महासागर

➔ प्राइम मेरिडियन - आन्ध्र महासागर

➔ कर्कट रेखा - आन्ध्र, प्रशान्त र हिन्द महासागर

➔ मक्कर रेखा - आन्ध्र, प्रशान्त र हिन्द महासागर

➔ अन्तर्राष्ट्रिय मिति रेखा - प्रशान्त महासागर

164. अफगानिस्तानको राजधानी सहरको नाम के हो?

[नेपाली सेना, सैन्य पद: २०८० ज्येष्ठ ६]

a. जलालाबाद

b. हेरात

c. गजनी

d. काबुल

- काबुल

★ दक्षिण एसियाली देशहरूको राजधानी शहरहरू (जानी राखौं):

➔ अफगानिस्तान: काबुल

➔ बंगलादेश: ढाका

➔ भुटान : थिम्पु

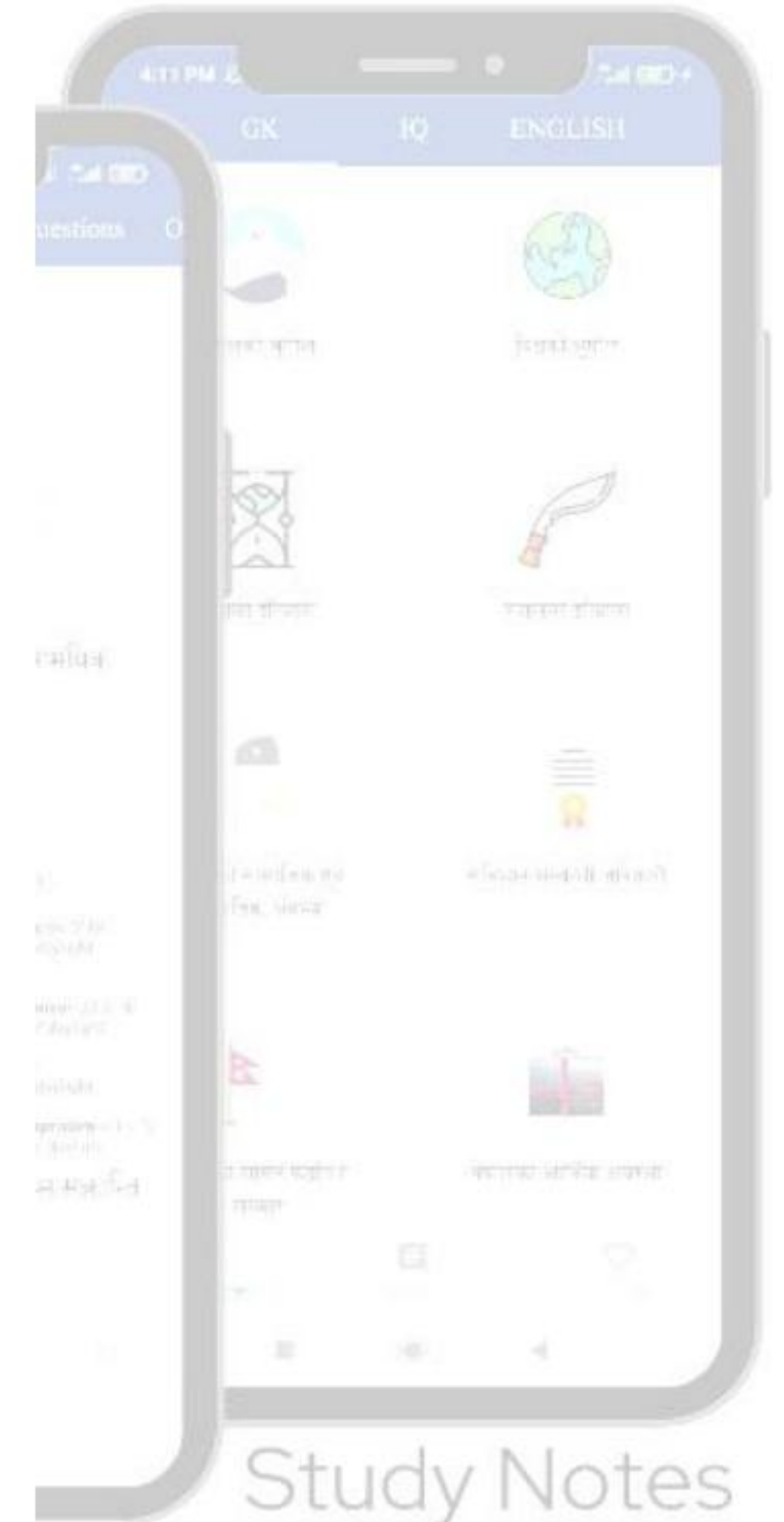
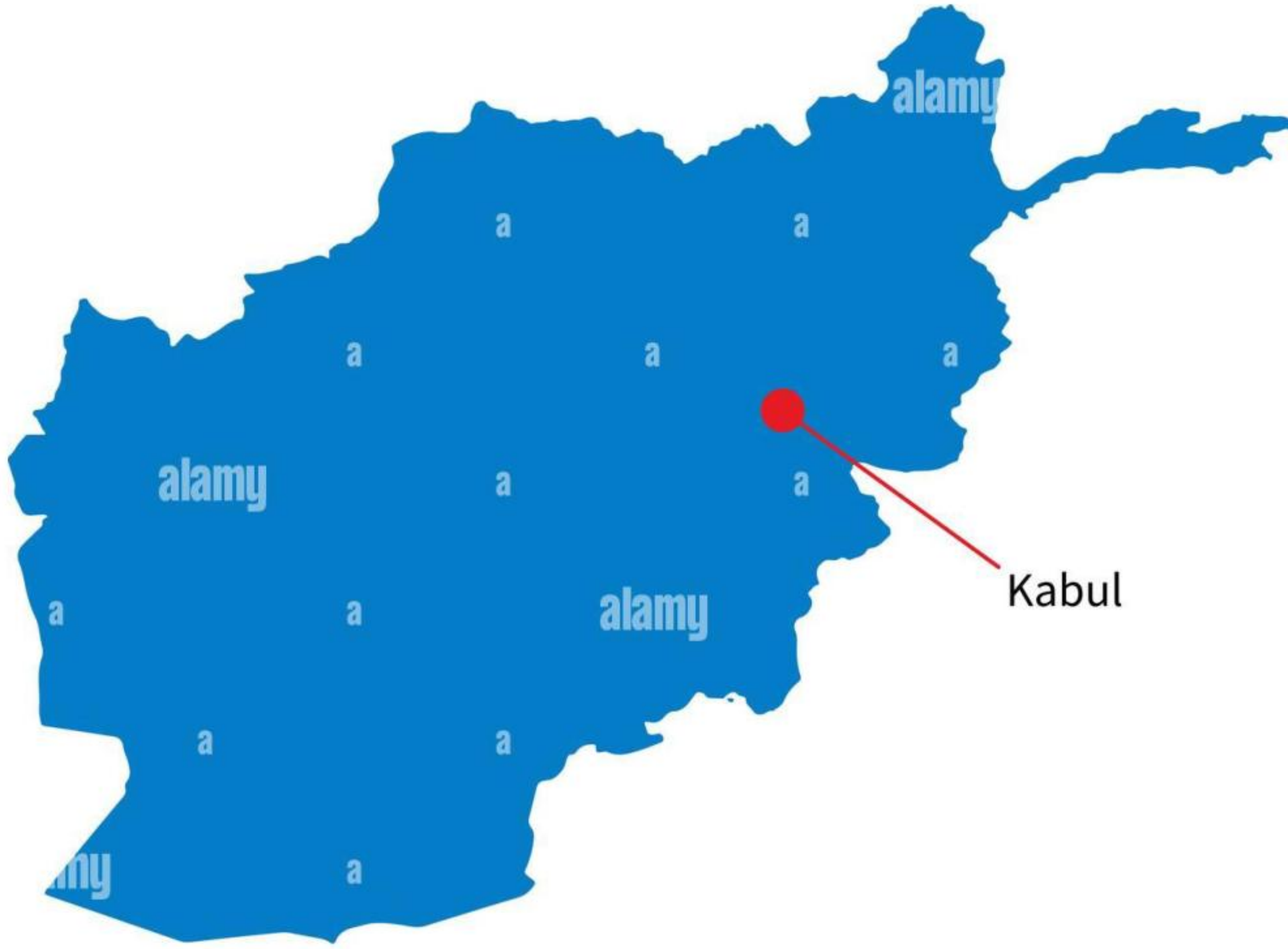
➔ भारत: नयाँ दिल्ली

➔ माल्दिभ्स: माले

➔ नेपाल : काठमाडौं

➔ पाकिस्तान : इस्लामाबाद

➔ श्रीलंका: कोलम्बो (प्रशासनिक राजधानी), श्री जयवर्धनेपुरा कोट्टे (विधायिका राजधानी)



Afghanistan

alamy

Image ID: G2XYAE
www.alamy.com

Past Questions

165. भुटानको राजधानी कहाँ छ'?

[नेपाली सेना, सैन्य पद: २०७६ असोज ११; नेपाली सेना, सैन्य पद: २०८० असोज ६]

- a. पारो b. थिम्पु c. जाकर d. गेलेफु

- थिम्पु

★ केहि एसियाली देशहरुको राजधानी (जानी राखौं):

➔ अफगानिस्तान: काबुल

➔ बंगलादेश: ढाका

➔ भुटान : थिम्पु

➔ चीन : बेइजिङ

➔ भारत: नयाँ दिल्ली

➔ इन्डोनेसिया : जकार्ता

➔ इरान: तेहरान

➔ इराक: बगदाद

➔ जापान : टोकियो

➔ लेबनान: बेरुत

➔ मलेसिया: क्वालालम्पुर

➔ माल्दिभ्स: माले

➔ मंगोलिया: उलानबाटार

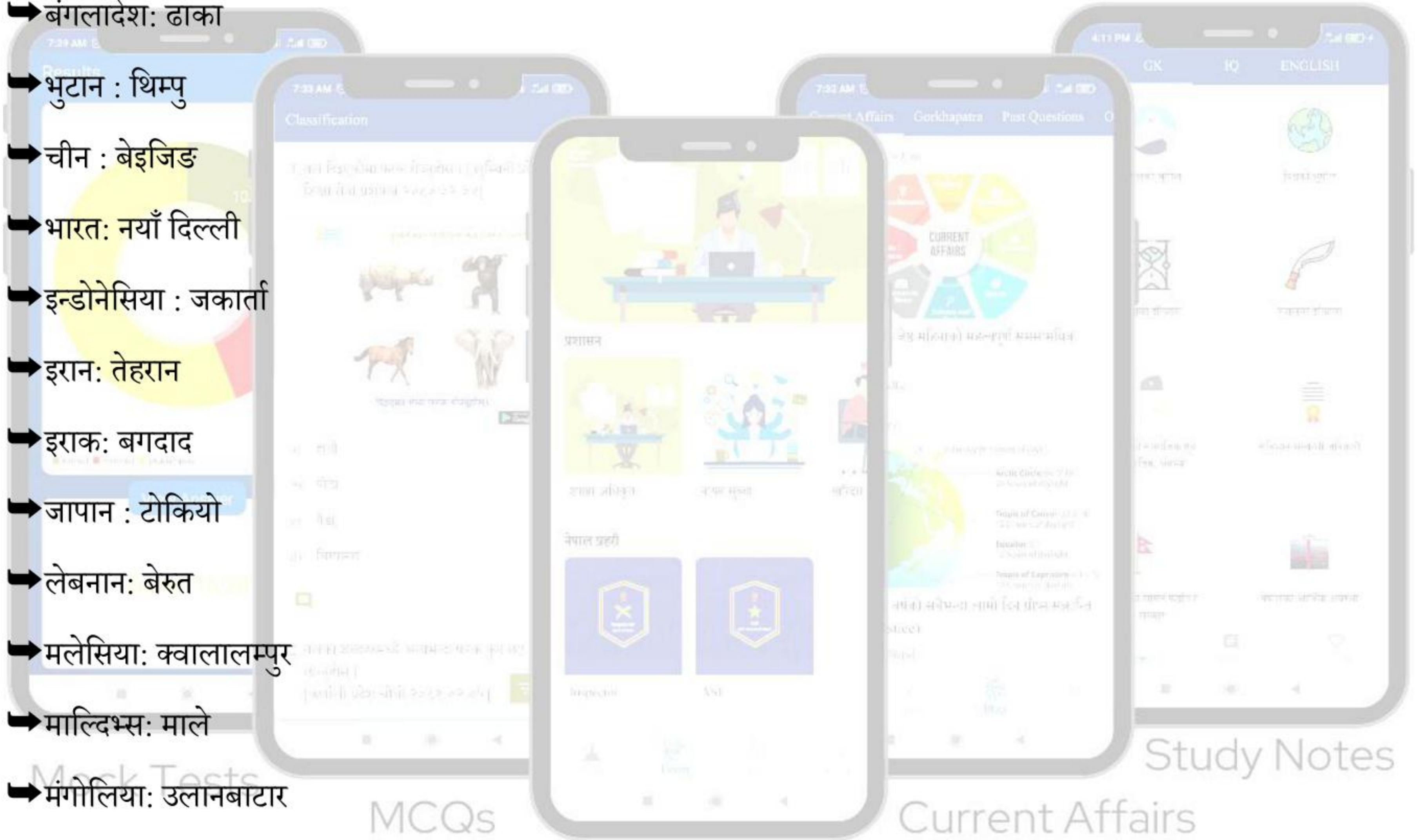
➔ नेपाल : काठमाडौं

➔ उत्तर कोरिया: प्योङयाङ

➔ ओमान: मस्कट

➔ पाकिस्तान : इस्लामाबाद

➔ फिलिपिन्स: मनिला



MCQs

Past Questions

Current Affairs

Study Notes

➔ कतार : दोहा

➔ साउदी अरब: रियाद

➔ सिंगापुर: सिंगापुर

➔ दक्षिण कोरिया: सोल

➔ श्रीलंका: कोलम्बो (प्रशासनिक राजधानी), श्री जयवर्धनेपुरा कोट्टे (विधायिका राजधानी)

➔ थाइल्याण्ड: बैंकक

➔ संयुक्त अरब इमिरेट्स: अबु धाबी

➔ भियतनाम: हनोई

166. 'Island State of Australia' कसको उपनाम हो?

[शाखा अधिकृत: २०७९ चैत्र ०४]

a. तस्मानिया

b. नोर्फोर्क आइल्याण्ड

c. क्रिसमस आइल्याण्ड

d. कोकोस (कीलिंग) इल्याण्ड

- तस्मानिया

★ केहि अष्ट्रेलियाली राज्यहरुको उपनाम (जानी राखौं):

➔ New South Wales: The Premier State, The First State

➔ Victoria: The Garden State

➔ Queensland: The Sunshine State

➔ South Australia: The Festival State

➔ Western Australia: The Wildflower State

➔ Tasmania: The Island State

➔ Northern Territory: The Top End

➔ Canberra: The Bush Capital

167. युरोपको बिरामी भनेर कुन देशलाई भनिन्छ?

[शाखा अधिकृत: २०७५]

a. टर्की b. अष्ट्रीया c. रोमानिया d. पोर्तुगल

- टर्की

★ केहि यूरोपेली देशहरूको उपनाम (जानी राखौं):

➔ Ukraine – The Bread Basket of Europe

➔ Switzerland – Land of Milk and Honey

➔ Slovenia – The Sunny Side of the Alps

➔ Italy – The Boot

➔ Ireland – The Emerald Isle

➔ Iceland – Land of Fire and Ice

➔ France – L'hexagone

➔ Finland – Land of Thousand Lakes



Study Notes

Current Affairs

Past Questions

MCQs

Mock Tests

➔ England – Land of Hope and Glory

➔ Belarus – The White Rus

➔ Albania – Land of the Eagles

➔ Austria – Land of Beauty and Music

➔ Germany – The Fatherland

➔ Turkey – The Sick Man of Europe



168. युफ्रेटिस र टाइग्रिस नदीको दोभानमा रहेको शहर कुन हो?

[शाखा अधिकृत: २०७४]

a. रियाद

b. दमास्कस

c. बगदाद

d. अंकारा

- बगदाद

★ राजधानी शहरहरू र तिनीहरूका प्रमुख नदीहरू (जानी राखौं):

➔ एम्स्टेल - एम्स्टर्डम (नेदरल्याण्ड)

➔ कंगो - किन्शासा (प्रजातान्त्रिक गणतन्त्र कंगो), ब्राजाभिल (रिपब्लिक अफ कंगो)

➔ नाइल - कायरो (इजिप्ट), खार्तूम (सुडान)

➔ रियो दे ला प्लाटा - ब्यूनस आयर्स (अर्जेन्टिना), मोन्टेभिडियो (उरुग्वे)

➔ सेन - पेरिस (फ्रान्स)

➔ ट्यागस - लिस्बन (पोर्चुगल)

➔ टेम्स - लन्डन (यूके)

➔ टाइबर - रोम (इटाली)

➔ टाइग्रिस - बगदाद (इराक)

➔ भिस्टुला - वारसा (पोल्याण्ड)

➔ बागमती - काठमाडौं (नेपाल)

➔ लिउङ - जकार्ता (इन्डोनेसिया)

➔ मन्जानारेस - म्याड्रिड (स्पेन)

➔ हान - सियोल (दक्षिण कोरिया)

➔ बुरीगंगा - ढाका (बंगलादेश)

➔ यमुना - नयाँ दिल्ली (भारत)

➔ योङ्ङिङ र चाओबाई - बेइजिङ (चीन)



Past Questions

169. क्षेत्रफलका आधारमा ठूलोबाट सानो देशको क्रम कुन हो?

[शाखा अधिकृत: २०७४]

a. चीन, भारत, साउदी अरब, मंगोलिया

b. भारत, मंगोलिया, चीन, साउदी अरब

c. चीन, मंगोलिया,

साउदी अरब, भारत

d. साउदी अरब, चीन, मंगोलिया, भारत

- चीन, भारत, साउदी अरब, मंगोलिया

★ उल्लेखित देशहरूको क्षेत्रफल (जानी राखौं):

→ चीन - ९,७०६,९६१ वर्ग कि.मी

→ भारत - ३,२८७,५९० वर्ग कि.मी

→ साउदी अरब - २,१४९,६९० कि.मी

→ मंगोलिया - १,५६४,११६ वर्ग कि.मी

170. विश्वको सबैभन्दा लामो रेल्वेलाईन कुन हो?

[शाखा अधिकृत: २०७२]

a. क्यानेडियन राष्ट्रिय रेलवे

b. ट्रान्स कन्टिनेन्टल रेलवे

c. ट्रान्स साइबेरियन रेलवे

d. ट्रान्स-अस्ट्रेलियन रेलवे

- ट्रान्स साइबेरियन रेलवे

★ विश्वका ५ शिर्ष लामो रेल्वे लाइनहरू (जानी राखौं):

१. ट्रान्स साइबेरियन रेलवे

२. बेइजिङ-मस्को रेलवे

३. सांघाई-ल्हासा रेलवे

४. क्यालिफोर्निया जेफिर
५. टोरन्टो-भ्यानकुभर ट्रेन

TRANS-SIBERIAN-RAILWAY

- Trans-Siberian
- Baikai-Amur Mainline
- Trans-Manchurian
- Trans-Mongolian



171. दिइएका देशमध्ये कुन कुन देशलाई मकर रेखाले छोएर जान्छ?

[शाखा अधिकृत: २०७२]

- a. चिली b. अष्ट्रेलिया c. नामिविया d. माथि

उल्लेखित सबै



- माथि उल्लेखित सबै

★ मकर रेखाले छोएर जाने देशहरू (जानी राखौं):

➔ अर्जेन्टिना

Past Questions



➔ चिली

➔ नामिबिया

➔ दक्षिण अफ्रिका

➔ मेडागास्कर

➔ अस्ट्रेलिया

➔ ब्राजिल

➔ पाराग्वे

➔ बोत्सवाना

➔ मोजाम्बिक

172. तलका भनाइ विचार गर्नुहोस।

१. पृथ्वीको जनसंख्याको अनुमानित ९०% उत्तरी गोलार्धमा अवस्थित छ।

२. पाक जलडमरु भारतको तामिलनाडु र श्रीलंकाको मन्नारका बीचमा पर्छ।

[शाखा अधिकृत: २०७२]

a. माथि उल्लेखित सबै ठिक

b. माथि उल्लेखित सबै बेठिक

c. १ ठिक र २ गलत

d. १

बेठिक र २ ठिक

- माथि उल्लेखित सबै ठिक

173. चीनबाट शुरु भई मध्य एसिया सम्म पुग्ने रेशम मार्ग (Silk Road) को लम्बाई कति छ?

[शाखा अधिकृत: २०७२]

a. ६४०० कि.मी

b. ३१०० कि.मी

c. ७६९० कि.मी

d. ६३९८ कि.मी

- ६४०० कि.मी

★ रेशम मार्ग (Silk Road) को बारेमा केहि जानकारी (जानी राखौं):

➔ रेशम मार्ग (Silk Road) ईसापूर्व दोस्रो शताब्दीदेखि १५ औं शताब्दीको मध्यसम्म सक्रिय यूरोशियन व्यापार मार्गहरूको सञ्जाल थियो।

➔ रेशम मार्ग (Silk Road) को समय अवधि - लगभग ११४ ईसा पूर्व - १४५० ईस्वी।

➔ प्राचिन चिनियाँ राजधानी सियानबाट सुरु भएर कन्स्टान्टिनोपल (हाल इस्तानबुल) मा अन्त्य हुन्थ्यो

➔ रेशम मार्ग (Silk Road) सबैभन्दा लामो प्राचीन ओभरल्याण्ड व्यापार मार्ग थियो।

174. मरुभूमिमा किन वर्षा हुँदैन?

[शाखा अधिकृत: २०७१]

a. वनस्पतिको अभाव b. उच्च तापमान c. कम आर्द्रता d. माथि उल्लेखित सबै

- माथि उल्लेखित सबै

175. सबैभन्दा गहिरो महासागर कुन हो?

[शाखा अधिकृत: २०७१]

a. सुमेरु महासागर b. हिन्द महासागर c. आन्ध्र महासागर d. प्रशान्त महासागर

- प्रशान्त महासागर

★ सबैभन्दा गहिरो देखि सबैभन्दा कम गहिरो महासागर (जानी राखौं):

१. प्रशान्त महासागर - ३,९७० मिटर

२. हिन्द महासागर - ३,६४६ मिटर

३. आन्ध्र महासागर - ३,७४१ मिटर
४. कुमेरु महासागर - ३,२७० मिटर
५. सुमेरु महासागर - १,२०५ मिटर

176. पूर्वी हिमालय जैविक मार्गले निम्न मध्ये कुन कुन देशलाई जोड्दछ?

[नायब सुब्बा: २०७६ फाल्गुण २४ (०७६/०७७ को विज्ञापन)]

- a. भारत र चीन b. भूटान र म्यानमार c. नेपाल d. माथि उल्लेखित सबै

- माथि उल्लेखित सबै

★ पूर्वी हिमालयका केहि तथ्य र तथ्याङ्कहरु (जानी राखौं):

- ➔ पूर्वी हिमालयी राष्ट्रहरु: भुटान, चीन, भारत, नेपाल र म्यानमार
- ➔ लम्बाइ: २,४१५ कि.मी
- ➔ सर्वोच्च शिखर: सगरमाथा (८,८४८.८६ मिटर)
- ➔ हिमनदी: लगभग १५,००० (१२,००० घन मिटर भन्दा बढी ताजा पानी भएको)
- ➔ नदी: विश्वका ३ ठूला नदीहरुका स्रोतहरु: याङ्त्जे, सिन्धु र गंगा
- ➔ प्रजातिहरु: १०,००० भन्दा बढी बोटबिरुवा, ९०० चरा, र ३०० स्तनपायी प्रजातिहरु

177. विश्वको तेस्रो ठुलो महासागर कुन हो?

[नायब सुब्बा: २०६९ बैशाख १२ समावेशी तर्फ]

- a. प्रशान्त महासागर b. आन्ध्र महासागर c. हिन्द महासागर d. सुमेरु महासागर

- हिन्द महासागर

Study Notes

Current Affairs

Past Questions

★ आकार अनुसार महासागरहरूको सूची, सबैभन्दा ठूलो देखि सानो सम्म:

१. प्रशान्त महासागर
२. आन्ध्र महासागर
३. हिन्द महासागर
४. कुमेरु महासागर
५. सुमेरु महासागर



178. निम्न मध्ये कुन ठीक हो/होइन्?

- क. आल्पस पर्वत युरोपमा पर्दछ।
- ख. अमेजन नदी दक्षिण अमेरिकामा पर्दछ।
- ग. रकी पर्वत उत्तर अमेरिकामा पर्दछ।

[नायब सुब्बा: २०६९ बैशाख १२ खुल्लातर्फ]

Past Questions

a. माथि उल्लेखित सबै ठिक मात्र ठिक

b. माथि उल्लेखित सबै बेठिक

c. (क) र (ख) मात्र ठिक

d. (ग)

- माथि उल्लेखित सबै ठिक

179. देहायका मध्ये कुन मरुभूमि ठूलो हो?

[खरिदार: २०७३ जेष्ठ १५]

a. सोमाली

b. कराकुम

c. थार

d. आटाकामा

- कराकुम

★ कराकुम मरुभूमिको बारेमा केहि जानकारी (जानी राखौं):

➔ स्थान - तुर्कमेनिस्तान, एशिया

➔ क्षेत्रफल - ३,५०,००० वर्ग कि.मी

➔ सन् १९७१ देखि निरन्तर रूपमा बलिरहेको "दरवाजा" नामक ग्याँस क्रेटर पनि येही मरुभूमिमा अवस्थित छ।

180. सबैभन्दा बढी भूपरिवेष्ठित राष्ट्र भएको महादेश कुन हो?

[खरिदार: २०७३ जेष्ठ १५]

a. दक्षिण अमेरिका

b. अफ्रीका

c. युरोप

d. उत्तर अमेरिका

- अफ्रीका

★ जानी राखौं:

➔ अफ्रिकामा सबैभन्दा धेरै भूपरिवेष्ठित देशहरू (१६), त्यसपछि युरोप (१४), एशिया (१२), र दक्षिण अमेरिका (२) छन्।

➔ उत्तर अमेरिका अस्ट्रेलिया र अन्टार्टिकामा भने कुनै पनि भूपरिवेष्ठित राष्ट्र नभएका।

➔ विश्वका १९८ वटा राष्ट्रमध्ये ४४ वटा राष्ट्र भूपरिवेष्टित राष्ट्र हुन्।

➔ दोहोरो भूपरिवेष्टित राष्ट्रको सङ्ख्या: २

उज्बेकिस्तान (एसिया) र लिचटेन्सटाइन(युरोप)

✓ उज्बेकिस्तान पाँच राष्ट्रले घेरिएको: अफगानिस्तान, काजाकिस्तान, तुर्कमेनिस्तान, कीर्किस्तान, ताजाकिस्तान, किर्गिस्तान

✓ लिचटेन्सटाइन भने दुई राष्ट्रले घेरिएको: स्वीट्जरल्याण्ड र अस्ट्रिया

181. निम्न मध्ये कुन ठीक हो/होइन?

क. अक्षांश रेखाको महत्तबाट कुनै ठाउँको हावापानीको अवस्था थाहा पाउन सकिन्छ।

ख. मौरिससको राजधानी मोगादिसु हो।

ग. एन्जेल झरना दक्षिण अमेरिकामा रहेको छ।

घ. युराल पर्वत श्रृङ्खला अफ्रिकामा पर्दछ।

[खरिदार : २०७२]

a. माथि उल्लेखित सबै ठिक

b. माथि उल्लेखित सबै बेठिक

c. (क) र (ग) मात्र ठिक

d. (ख)

र (घ) मात्र ठिक

- (क) र (ग) मात्र ठिक

★ सही तथ्य:

ख. सोमालियाको राजधानी मोगादिसु हो। मरिसियसको भने पोर्ट लुइस हो।

घ. युराल पर्वत श्रृङ्खला यूरेसिया (Europe and Asia) पर्दछ।

182. विश्वको सबभन्दा ठूलो नुनिलो पानीको ताल कुन हो?

[खरिदार: २०७२]

a. मृतसागर

b. क्यास्पियन सागर

c. इरी ताल

d. भिक्टोरिया ताल

- क्यास्पियन सागर

➔ भौगोलिक रूपमा नुनिलो पानीको ताललाई Endorheic Lakes भनिन्छ।

★ विश्वको ५ शिर्ष ठुलो नुनिलो पानीको तालहरू (जानी राखौं):

१. क्यास्पियन सागर - रुस, तुर्कमेनिस्तान, इरान, काजाकिस्तान र अजरबैजान
२. लेक बल्खास - काजकस्तान
३. लेक आइर - अष्ट्रेलिया
४. तुर्काना ताल - केन्या र इथियोपिया
५. इसिक कुल - किर्गिस्तान

Mock Tests

MCQs

Past Questions

Current Affairs

Study Notes



183. कुन महासागरलाई वाणिज्य महासागरको नामले चिनिन्छ?

[खरिदार: २०६८ जेठ २७ (समावेशी तर्फ)]

- a. सुमेरु महासागर b. आन्ध्र महासागर c. कुमेरु महासागर d. हिन्द महासागर

- आन्ध्र महासागर

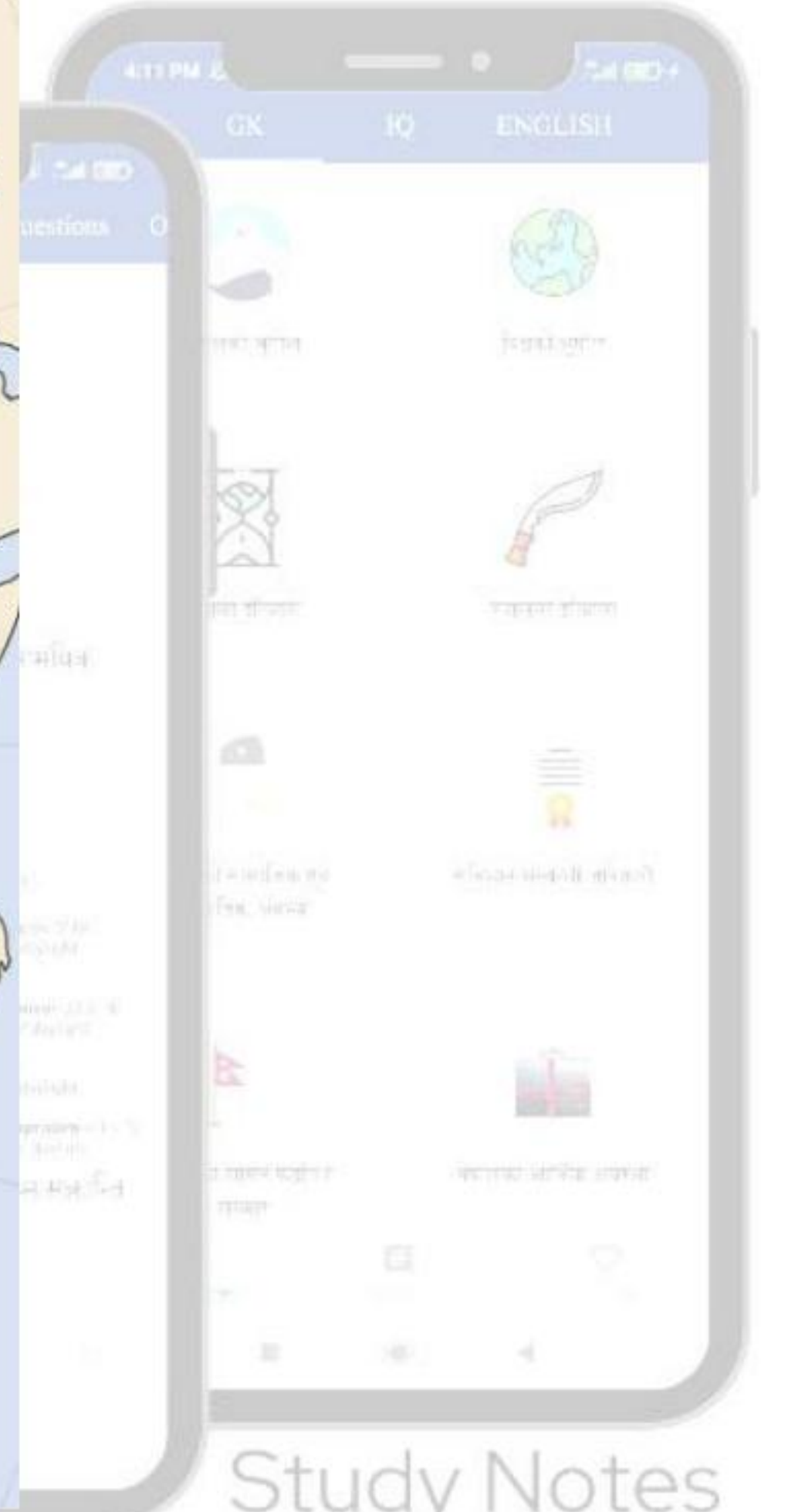
Mock Tests

MCQs

Past Questions

Current Affairs

Study Notes



Mock Tests

184. संसारको तेस्रो उच्च हिमाल तलको मध्ये कुन हो?

[खरिदार आ.प्र.: २०८० मंसिर २६; नायब सुब्बा: २०६९ बैशाख १२ खुल्लातर्फ]

- a. माउन्ट K2 b. कञ्चनजङ्घा हिमाल c. किलिमन्जारो हिमाल d. धौलागिरी हिमाल

- कञ्चनजङ्घा हिमाल

★ विश्वका शीर्ष ५ अग्लो हिमालहरू:

१. सगरमाथा (२९,०३२ फीट/८,८४८.८६ मिटर), नेपाल

Current Affairs

Study Notes

२. माउन्ट K2 (८,६११ मिटर / २८,२५१ फिट), पाकिस्तान
३. कञ्चनजङ्घा हिमाल (२८,१६९ फिट / ८,५८६ मिटर), नेपाल
४. माउन्ट ल्होत्से (२७,९४० फीट / ८,५१६ मिटर), नेपाल
५. माकालु माउन्ट (२७,८२५ फीट / ८,४८१ मिटर), नेपाल



185. दिइएकामध्ये कुन शहर अष्ट्रेलिया महादेशमा पर्दैन?

[मधेश प्रदेश पाँचौ तह २०८० मंसिर १६]

- a. सिड्नी b. पर्थ c. ब्रीसवेन d. म्यान्चेस्टर

- म्यान्चेस्टर

★ जानी राखौं:

➔ म्यानचेस्टर, इंग्ल्याण्डको एउटा सहर हो र यो बेलायत भित्र पर्छ।

186. निम्न मध्ये विश्वमा सबैभन्दा धेरै देशसँग सिमाना जोडिएको राष्ट्र कुन हो?

[लुम्बिनी प्रदेश महिला विकास सहायक पाचौं: २०८० बैशाख]

a. फ्रान्स b. चीन c. कजाकिस्तान d. क्यानडा

- चीन

★ सबैभन्दा धेरै साझा सीमानाहरू भएका शीर्ष ५ देशहरू:

१. चीन - १४

२. रुस - १४

३. ब्राजिल - १०

४. प्रजातान्त्रिक गणतन्त्र कंगो - ९

५. जर्मनी - ९

187. ठिक उत्तर छनौट गर्नुहोस्?

क. १८० डिग्री देशान्तर रेखालाई अर्न्तराष्ट्र तिथि रेखा भनिन्छ।

ख. जियो डिग्री अक्षांश रेखालाई भूमध्य रेखा भनिन्छ।

ग. व्यापारका दृष्टिकोणले सबैभन्दा व्यस्त महासागर भनेर हिन्द महासागरलाई चिनिन्छ।

[कर्णाली सहायक पाचौं, २०७९ फाल्गुण ०९]

a. (ख) र (ग) दुवै ठिक तर (क) बेठिक

b. (क) र (ख) दुवै ठिक तर (ग) बेठिक

ठिक

d. माथि उल्लेखित सबै बेठिक

- (क) र (ख) दुवै ठिक तर (ग) बेठिक

★ सही तथ्य:

ग. व्यापारका दृष्टिकोणले सबैभन्दा व्यस्त महासागर भनेर आन्ध्र महासागरलाई चिनिन्छ।

188. ठूलोबाट सानो मरुभूमिको क्रम कुन सही छ?

[कर्णाली सहायक पाचौ: २०७९ बैशाख १७ (०७८/७९ को)]

a. Sahara Desert - Arabian Desert - Gobi Desert

b. Kalahari Desert - Great Victoria

Desert - Sahara Desert

c. Patagonian Desert - Arabian Desert - Great Basin Desert

d. माथि उल्लेखित कुनैपनि हैन

- Sahara Desert - Arabian Desert - Gobi Desert

★ विश्वको पाँच ठूलो मरुभूमिहरू:

१. सहारा मरुभूमि - ९,२००,००० वर्ग कि.मी

२. अरबी मरुभूमि - १,८५५,४७० वर्ग कि.मी

३. गोबी मरुभूमि - १,२९५,००० वर्ग कि.मी

४. प्याटागोनियन मरुभूमि - ६७३,००० वर्ग कि.मी

५. ग्रेट भिक्टोरिया मरुभूमि - ६४७,४९७ वर्ग कि.मी

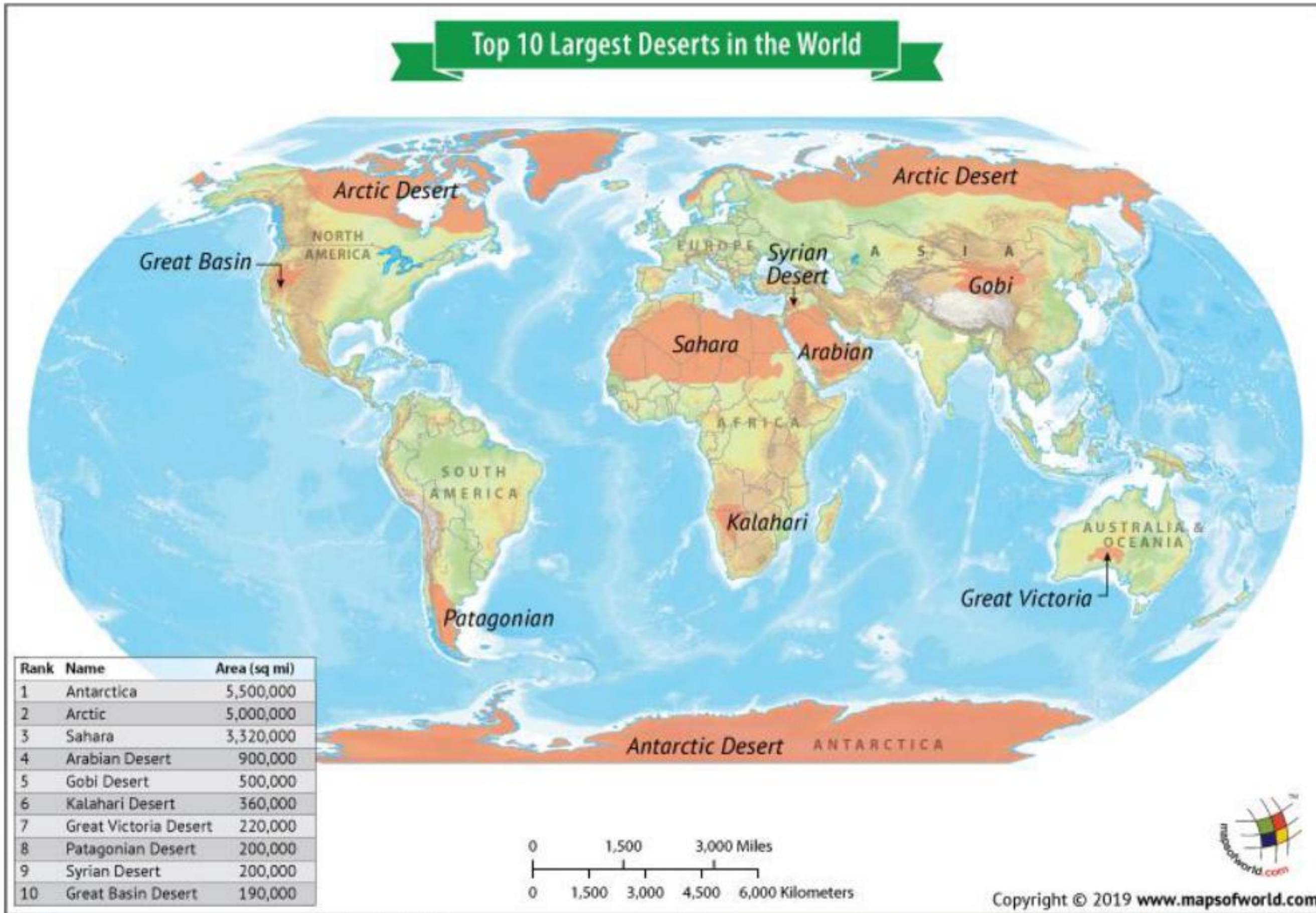
Mock Tests

MCQs

Past Questions

Current Affairs

Study Notes



189. आइर ताल (Lake Eyre) कुन देशमा पर्दछ?

[कर्णाली प्रदेश महिला विकास पाचौ तह: २०७९ फाल्गुण १३]

- a. जर्मनी b. क्यानाडा c. अस्ट्रेलिया d. भारत

- अस्ट्रेलिया

➔ आइर ताल अस्ट्रेलियाको सबैभन्दा ठुलो अन्तरदेशीय ताल हो।

190. प्रशान्त महासागरको सबैभन्दा गहिरो भाग कुन हो?

[निम्न माध्यमिक तह: २०८० बैशाख ९]

- a. जाभा ट्रेंच b. पोर्टो रिको ट्रेंच c. मरियाना ट्रेंच d. यूरेशिया बेसिन

- मरियाना ट्रेन्च

★ पाँच प्रमुख महासागर मध्ये प्रत्येकको गहिरो भागहरु:

१. प्रशान्त महासागर - मारियाना ट्रेन्च

२. आन्ध्र महासागर - पोर्टो रिको ट्रेन्च

३. हिन्द महासागर - जाभा ट्रेन्च

४. सुमेरु महासागर - दक्षिण स्यान्डविच खाडल

५. कुमेरु महासागर - मोलोय दीप

191. कुन महादेशलाई प्रायद्वीपको पनि प्रायद्वीप भनेर चिनिन्छ? [निम्न माध्यमिक तह: २०८० बैशाख ९]

a. अस्ट्रेलिया

b. एशिया

c. युरोप

d. उत्तर अमेरिका

- युरोप

★ हरेक महादेशहरुको उपनाम:

१. एशिया - विसमताको महादेश

२. युरोप - अँध्यारो महादेश

३. उत्तर अमेरिका - नयाँ संसार

४. दक्षिण अमेरिका - ल्याटिन अमेरीका

५. युरोप - प्रायद्वीपको पनि प्रायद्वीप

६. अस्ट्रेलिया - टापू महादेश

७. अन्टार्कटिका - सेतो महादेश

Past Questions

Study Notes

Current Affairs

192. इरानको पुरानो नाम के हो?

[निम्न माध्यमिक तह: २०७८ चैत्र १७]

- a. हेलास b. पर्सिया c. सिलोन d. सियाम

- पर्सिया

193. माउन्ट एल्ब्रुज (Mount Elbrus) कुन महादेशमा पर्दछ?

[कोशी प्रदेश अधिकृत छैटौं तह वि.सं. २०७९]

- a. एशिया b. युरोप c. उत्तर अमेरिका d. दक्षिण अमेरिका

- युरोप

➔ माउन्ट एल्ब्रुज (Mount Elbrus) यूरोप र रुसको सबैभन्दा अग्लो हिमाल हो।

★ प्रत्येक महादेशको सबैभन्दा अग्लो हिमाल (जानी राखौं):

१. एशिया - माउन्ट एवरेस्ट (सगरमाथा)
२. यूरोप - माउन्ट एल्ब्रुज
३. अस्ट्रेलिया - माउन्ट कोसिउस्को
४. उत्तर अमेरिका - माउन्ट डेनाली
५. दक्षिण अमेरिका - माउन्ट एकोन्कागुआ
६. अफ्रीका - माउन्ट किलिमन्जारो
७. अन्टार्कटिका - माउन्ट भिन्सन

194. मृत सागर कून दुई देशको सिमानामा पर्दछ?

[कोशी प्रदेश अधिकृत छैटौं तह वि.सं. २०७९]

a. सिरिया र जोर्डन
कुनैपनि हैन

b. इजिप्ट र इजरायल

c. जोर्डन र इजरायल

d. माथि उल्लेखित

- जोर्डन र इजरायल



195. एसिया महादेशमा कतिवटा भूपरिवेष्ठित राष्ट्र छन्?

[कोशी प्रदेश अधिकृत तह - २०८० असार १६]

a. १६ वटा

b. २ वटा

c. १२ वटा

d. १८ वटा

- १२ वटा

→ विश्वमा कुल ४४ वटा भूपरिवेष्ठित राष्ट्र छन्।

→ एसिया, अफ्रिका, युरोप, द.अमेरिका - क्रमशः १२, १६, १४ र २

★ जानी राखौं:

→ सबैभन्दा धेरै भूपरिवेष्ठित राष्ट्र भएको महादेश - अफ्रिका

→ भूपरिवेष्ठित राष्ट्र नभएको महादेश - उत्तर अमेरिका



Mock Tests

MCQs

Past Questions

Current Affairs

Study Notes



196. द ग्रेट भिक्टोरिया मरुभूमि (The Great Victoria Desert) कहाँ पर्दछ?

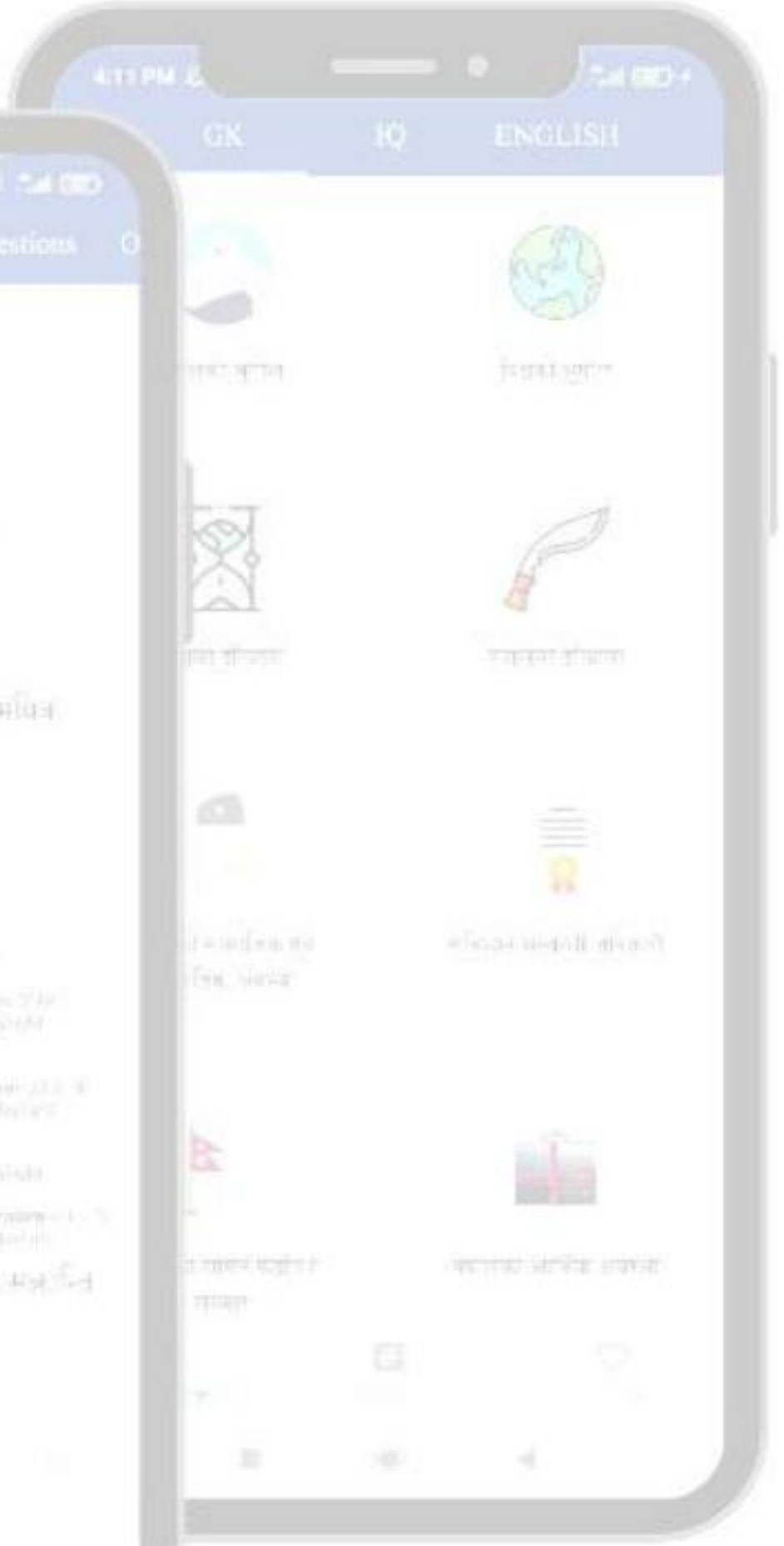
[कोशी प्रदेश अधिकृत तह - २०८० असार १६; शाखा अधिकृत: २०७२]

- a. अफ्रीका b. अष्ट्रेलिया c. उत्तर अमेरिका d. एशिया

- अष्ट्रेलिया

★ हरेक महादेशको ठुलो मरुभूमि (जानी राखौं):

१. सहारा मरुभूमि - अफ्रीका
२. द ग्रेट भिक्टोरिया मरुभूमि - अस्ट्रेलिया
३. अरेबियन मरुभूमि - एसिया



Study Notes

Current Affairs

Past Questions

४. चिहुआहुआन मरुभूमि - उत्तर अमेरिका
५. प्याटागोनियन मरुभूमि - दक्षिण अमेरिका
६. अन्टार्कटिक मरुभूमि आफैमा एउटा हिउँले ढाकिएको मरुभूमि हो।
७. यूरोपमा कुनैप्रकारको ठुलो मरुभूमि अवस्थित छैन।

197. पृथ्वीको कूल क्षेत्रफलको कति प्रतिशत भाग जमिनले ढाकेको छ?

[कोशी प्रदेश अधिकृत पाँचौँ तह - २०७८ चैत्र २६]

a. १८.३५ प्रतिशत

b. ३६.१४ प्रतिशत

c. २९.०२ प्रतिशत

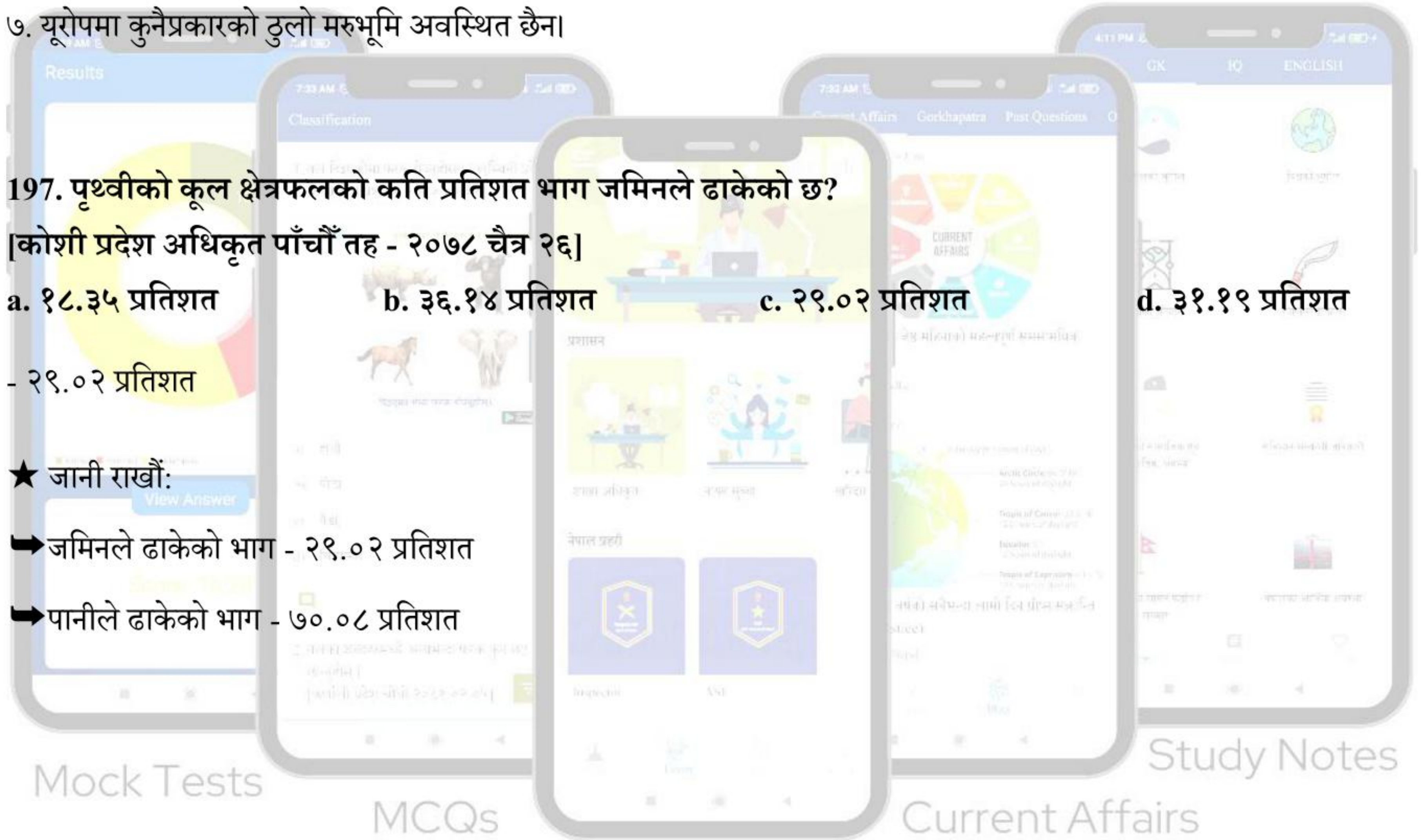
d. ३१.१९ प्रतिशत

- २९.०२ प्रतिशत

★ जानी राखौं:

➔ जमिनले ढाकेको भाग - २९.०२ प्रतिशत

➔ पानीले ढाकेको भाग - ७०.०८ प्रतिशत



Mock Tests

MCQs

Current Affairs

Study Notes

Past Questions



198. तलका भनाइ विचार गर्नुहोस्:

१. 'Horn of Africa' मा पर्ने राष्ट्रहरू (South Africa, Djibouti र Eritrea) हुन्।
२. सबैभन्दा बढी सामुन्द्रीक किनारा भएको महादेश Australia हो।
३. Bread Basket of the world भनेर Italy लाई चिनिन्छ।
४. '38 Parallel South Korea र North Korea लाई छुट्याउने सीमा रेखा हो।

[कोशी प्रदेश अधिकृत पाँचौँ तह - २०७८ चैत्र २६]

a. माथि उल्लेखित सबै सही b. १ र ३ सही, ४ र १ गलत c. ४ सही १, २ र ३ गलत d.

माथि उल्लेखित सबै गलत

- ४ सही १, २ र ३ गलत

★ सही तथ्यहरू:

१. 'Horn of Africa' मा अवस्थित राष्ट्रहरू - जिबूती, इरिट्रिया, इथियोपिया र सोमालिया



Study Notes

Past Questions

२. सबैभन्दा बढी सामुन्द्रीक किनारा भएको महादेश Asia हो।

३. Bread Basket of the world भनेर Ukraine लाई चिनिन्छ।

199. टाइटानिक जहाज (Titanic) आन्ध्र-महासागरमा कहिले डुबेको थियो?

[कोशी प्रदेश महिला विकास निरीक्षक पाँचौँ तह: २०७८ चैत्र १२]

a. सन् १९१२, अप्रिल १४

b. सन् १९१६, जनुअरी २३

c. सन् १९०७, मार्च ११

d. सन्

१९९७, डिसेम्बर १९

- सन् १९१२, अप्रिल १४

★ टाइटानिक जहाज (Titanic) को बारेमा केहि तथ्यहरु (जानी राखौं):

➔ पूर्ण नाम - RMS Titanic

➔ कुन देशको? बेलायत

➔ कहाँ देखि कहाँ जाने क्रममा दुर्घटना भएको? साउथेम्प्टन देखि न्यूयार्क शहर

➔ कहिले दुर्घटना भएको? सन् १९१२, अप्रिल १४

➔ मृत्यु संख्या - १,५१७ (कुल २,२०० यात्रु र चालक दलका सदस्यहरुबाट)

Mock Tests

MCQs

Current Affairs

Study Notes

200. पहाडको अध्ययन गर्ने शास्त्रलाई के भनिन्छ?

[कोशी प्रदेश महिला विकास चौथो: २०८० असार ९]

a. नृविज्ञान

b. कार्टोग्राफी

c. ओरोलोजी

d. पेडोलोजी

- ओरोलोजी

with GhokSewa

★ भौगोलिक अध्ययनसँग सम्बन्धित केही अन्य प्रकारका विज्ञानहरू (जानी राखौं):

- ➔ जियोमोर्फोलजी - पृथ्वीको सतहमा भूरूपहरूको गठन र विकासको अध्ययन,
- ➔ जलवायु विज्ञान - तापमान, वर्षा, र वायुमण्डलीय अवस्थाहरू सहित मौसम र तिनीहरूको दीर्घकालीन ढाँचाहरूको अध्ययन,
- ➔ पेडोलोजी - माटो, यसको गठन, वर्गीकरण, र वितरणको अध्ययन,
- ➔ जलविज्ञान: पृथ्वीको सतह, भूमिगत र वायुमण्डलमा पानीको वितरण, चाल र गुणहरूको अध्ययन,
- ➔ जैविक भूगोल: प्रजाति र पारिस्थितिकी तंत्रको वितरणको अध्ययन,
- ➔ पोटामोलजी: नदीहरूको वैज्ञानिक अध्ययन,
- ➔ मरुभूमि पारिस्थितिकी - मरुभूमि वातावरण को जैविक र अजैविक घटक दुवै बीच अन्तरक्रियाको अध्ययन,
- ➔ कार्टोग्राफी: नक्सा बनाउने र नक्सा व्याख्याको विज्ञान र अध्ययन,



Study Notes

Current Affairs



GET IT ON
Google Play

201. एसिया, अफ्रिका, युरोप, द.अमेरिकामा भूपरिवेष्ठित राष्ट्र कति छन्?

[कोशी प्रदेश महिला सहायक चौथो तह २०७८ चैत्र ५; बागमती प्रदेश चौथो: २०७८ चैत्र ५]

a. क्रमशः २, १४, १६ र १२

b. क्रमशः १४, २, १२ र १६

c. क्रमशः १६, १४, २, र १२

d. क्रमशः १२, १६, १४ र २

- क्रमशः १२, १६, १४ र २

→ विश्वोमा कुल ४४ भूपरिवेष्ठित राष्ट्रहरू छन्।

★ जानी राखौं:

→ विश्वको सबैभन्दा ठुलो भूपरिवेष्ठित राष्ट्र - कजाकिस्तान

→ विश्वको सबैभन्दा सानो भूपरिवेष्ठित राष्ट्र - भ्याटिकन सिटी

→ भूपरिवेष्ठित राष्ट्रहरू नभएको महादेश - उत्तर अमेरिका

202. समुन्द्रको गहिराई नाप्ने यन्त्र कुन हो?

[मधेश प्रदेश सातौं तह २०७९ भाद्र १८]

a. बोलोमिटर

b. फेथोमिटर

c. अडियोमिटर

d. थर्मोमिटर

- फेथोमिटर

★ समुद्र विज्ञानमा प्रयोग हुने केही प्रमुख उपकरणहरू (जानी राखौं):

→ Fathometer - समुन्द्र वा अन्य कुनै पनि जल निकायको गहिराई मापन गर्ना

→ CTD (Conductivity, Temperature, and Depth) Profiler - यो उपकरणले विभिन्न गहिराइमा समुद्री पानीको चालकता, तापक्रम र गहिराइ मापन गर्छ।

- ➔ Satellite Altimeter - यो उपकरणले अन्तरिक्षबाट समुद्रको सतहको उचाइ नाप्छ।
- ➔ Acoustic Doppler Current Profiler (ADCP) - यो उपकरणले विभिन्न गहिराइहरूमा समुद्री धाराहरू मापन गर्छन्।
- ➔ Sediment Corers - यो उपकरण समुद्रीतलबाट तलछटको नमूनाहरू सङ्कलन गर्न प्रयोग गरिने यन्त्र हो।
- ➔ Hydrophones - यो उपकरण समुद्रमा ध्वनिहरू सुन्न प्रयोग गरिने माइक्रोफोन हो, जसमा समुद्री जनावरका आवाजहरू, पानीमुनि आउने भूकम्पहरू, र जहाजको आवाजहरू समावेश हुन्छन्।



203. विश्वको सबैभन्दा ठूलो मरुभूमि कुन हो?

[मधेश प्रदेश चौथो तह: २०८० पौष ०७; खरिदार: २०७०]

a. गोबी मरुभूमि

b. सहारा मरुभूमि

c. कलाहरी मरुभूमि

d. आटकामा मरुभूमि

- सहारा मरुभूमि

★ विश्वको पाँच ठूलो मरुभूमिहरू (जानी राखौं):

१. सहारा मरुभूमि - ९,२००,००० वर्ग कि.मी

२. अरबी मरुभूमि - १,८५५,४७० वर्ग कि.मी
३. गोबी मरुभूमि - १,२९५,००० वर्ग कि.मी
४. प्याटागोनियन मरुभूमि - ६७३,००० वर्ग कि.मी
५. ग्रेट भिक्टोरिया मरुभूमि - ६४७,४९७ वर्ग कि.मी



Mock Tests

MCQs

Past Questions

Current Affairs

Study Notes